

CONTEÚDOS do 8º ANO - 3º/4º BIMESTRE 2018 - TRABALHO DE DEPENDÊNCIA

Nome: \_\_\_\_\_ N.º: \_\_\_\_\_

Turma: \_\_\_\_\_ Professor(a): José Data: \_\_\_\_/\_\_\_\_/2018

Unidade:  Cascadura  Mananciais  Méier  Taquara

Resultado / Rubrica

Valor Total 10,0 pontos

INSTRUÇÕES

- ★ Desenvolva seu trabalho apenas com caneta azul ou preta.
- ★ Preencha corretamente o cabeçalho e entregue esta folha junto com a resolução do trabalho.
- ★ Fique atento ao prazo de entrega.
- ★ Leia o que está sendo solicitado, desenvolva seu trabalho calmamente e releia-o antes de entregá-lo.
- ★ Não utilize corretivos (*liquid paper*). Faça um rascunho e depois passe a limpo seu trabalho.

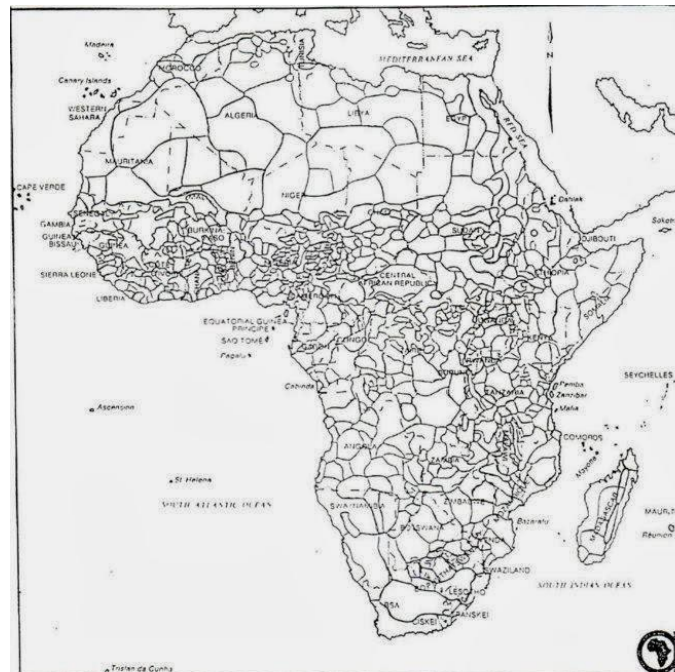
INSTRUÇÕES

- **AS QUESTÕES OBRIGATORIAMENTE DEVEM SER ENTREGUES EM UMA FOLHA À PARTE COM ESTA EM ANEXO.**

Questão 1) A partilha do continente africano no final do século XIX pelos colonizadores europeus criou as chamadas fronteiras artificiais. Grande parte destas fronteiras foi mantida após o processo de independência dos países africanos. Com base nesse contexto e nos conhecimentos sobre o assunto explique o que são as fronteiras artificiais e como elas contribuíram para o processo de colonização do continente africano.

Utilize o texto e mapas abaixo para responder as questões 2 e 3:

"A diversidade étnica e religiosa em alguns países africanos tem sido o factor fundamental para o surgimento de conflitos e tensões internas (...)A preponderância de conflitos está igualmente relacionada com a partilha injusta das riquezas naturais, com altos níveis de pobreza, colapso das instituições políticas e dependência económica dos recursos naturais, disse afirmou sábado, em Windhoek, capital da Namíbia, o secretário Geral do MPLA, Julião Mateus Paulo" Dino Matross".



MAP 2: SUPERIMPOSED ETHNIC MAP OF AFRICA  
(Source: Africa Institute and De Blij, 1977: 102)

*Diversidade étnica no continente africano*

2 – Explique o que é diversidade étnica e argumente com base no mapa se há uma grande diversidade no continente africano.

3 – Explique por que as fronteiras dos atuais países africanos não correspondem ao mapa das etnias acima apresentado e explique como isso pode gerar conflitos nos territórios do continente.

Observe a imagem abaixo para responder as questões 4 e 5:



Encontro entre os presidentes do Mercosul em julho de 2013.

Questão 4) Explique o que é o Mercosul e quais são os objetivos para a formação deste bloco.

Questão 5) Quais são os atuais países membros do Mercosul? Houve alguma mudança entre os países membros de 2013 até o momento? Caso tenha ocorrido mudanças explique os motivos.

Questão 6) Observe o mapa abaixo:



Diferencie os países da América Anglo-saxônica e os países da América Latina no mapa acima.



Manifestação do MST em 2016

Questão 7)

No Brasil e em diversos outros países da América Latina encontramos movimentos sociais que lutam pela reforma agrária. Explique o que é a reforma agrária e quais as reivindicações desses grupos.

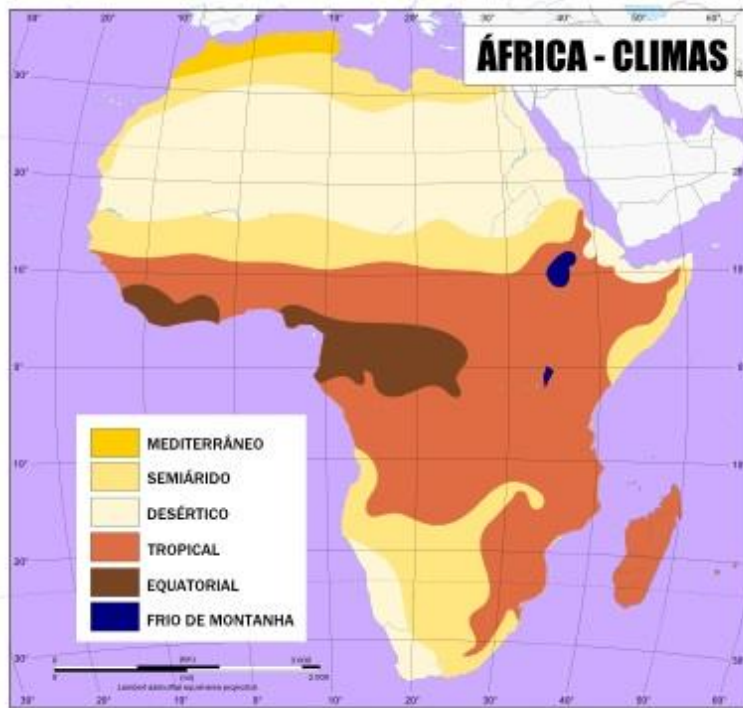
Questão 8)



Cidade de Havana – Cuba

Cuba apresenta-se como um dos poucos países onde ainda se tem uma experiência de governo socialista. Isso impacta o modo de vida da população e a relação de Cuba com os outros países. Indique pontos positivos e negativos no país acima citado tendo como base seu desenvolvimento social e economia.

Questão 9) O mapa abaixo indica os diferentes tipos climáticos presentes na África:



Ao contrário do que se pensa a África apresenta diversos tipos climáticos, como pode ser observado no mapa acima. Indique os motivos para a ocorrência de cada um dos climas apresentados no mapa.

Questão 10) Desenhe um mapa do continente africano e apresente neste mapa uma de suas possíveis regionalizações.



Condomínio no bairro de Morumbi em São Paulo ao lado da favela Paraisópolis.

Questão 11)

O problema de moradia nas cidades se dá em diversos países e com grande desigualdade também nos países da América Latina, a partir disso relacione a imagem acima ao processo de segregação socioespacial existente nas cidades latino-americanas.

Questão 12)



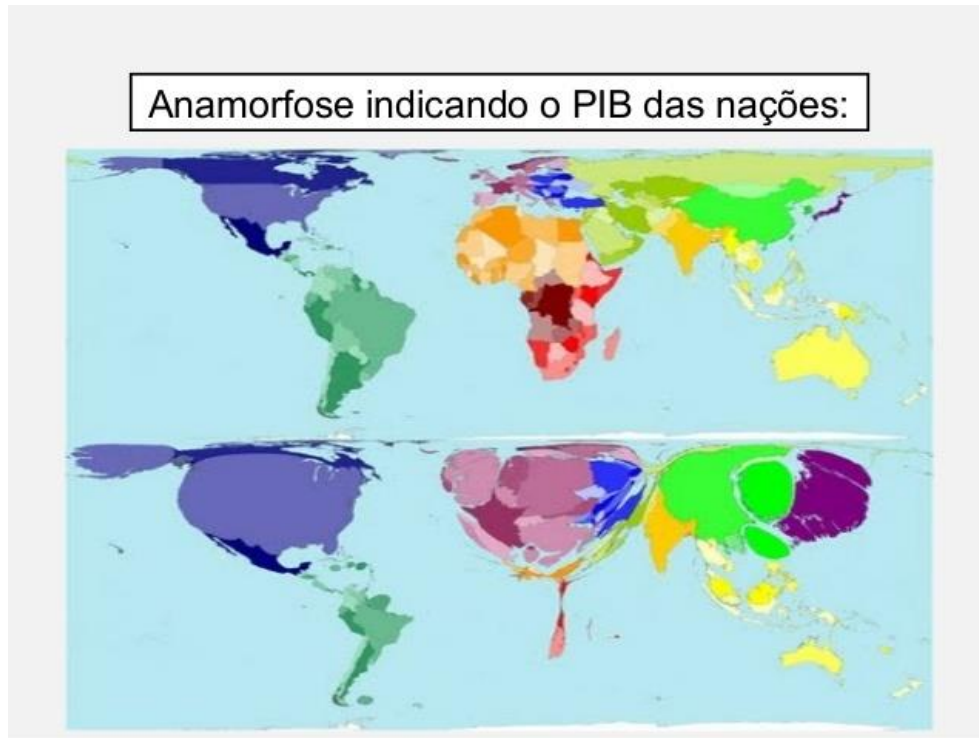
Com base no mapa explique por que existem áreas de maior e menor altitude e explique também como o relevo pode influenciar na vegetação de uma área.

Observe o mapa e texto abaixo para responder as questões 13 e 14:

Anamorfose geográfica ou cartográfica é uma forma de representação do espaço geográfico em que há a distorção da proporcionalidade entre os territórios para adequá-los aos dados quantitativos que norteiam o mapa. A palavra anamorfose tem origem na junção de dois termos gregos (aná: "sobre" + morphê: "forma"), podendo ser entendida como "formado de novo".

Os mapas anamórficos, como são conhecidas essas representações cartográficas, são elaborados a partir da análise de dados quantitativos referentes a uma determinada área.

<https://brasilecola.uol.com.br/o-que-e/geografia/o-que-e-anamorfose-geografica.htm>



Questão 13) Com base no mapa e no texto acima explique o que está sendo representado na anamorfose mostrada.

Questão 14) Indique algumas razões para a desigualdade de PIB indicada entre os países continentes africano e americano.

15) Trata-se de um grupo étnico que se configura como a maior nação sem pátria no mundo, ou seja, sem um Estado constituído. No total, eles formam uma população superior a 30 milhões de habitantes. De qual grupo étnico a afirmativa está falando?

16) Em 1997 Hong Kong foi incorporada a República Popular da China. O governo chinês já manifestou interesse em um "status" especial para o Tigre Asiático, que apresenta nível socioeconômico muito mais elevado se comparado ao padrão chinês.

Identifique as principais diferenças entre as economias das duas unidades políticas citadas.

17) Comparativamente, a China Oriental é muito mais desenvolvida que a China Ocidental, além do que, o quadro natural do leste da China é bem mais favorável à ocupação do que o do interior. Na China Oriental, no entanto, duas porções se distinguem do ponto de vista físico, humano e econômico. Identifique essas porções e caracterize-as.



18) Aponte a justificativa mais plausível para os investimentos multinacionais na Índia e as questões religiosas que tornaram sua grande população um restrito mercado consumidor.