

CONTEÚDOS DO 9º ANO – 3º/4º BIMESTRE 2015 – TRABALHO DE DEPENDÊNCIA

Nome: \_\_\_\_\_ N.º: \_\_\_\_\_

Turma: \_\_\_\_\_ Professor(a): Gabriel Data: \_\_\_\_/\_\_\_\_/2015

Unidade:  Cascadura  Mananciais  Méier  Taquara

Resultado / Rubrica

Valor Total 10,0 pontos

INSTRUÇÕES

- ★ Desenvolva seu trabalho apenas com **caneta** azul ou preta.
- ★ Preencha corretamente o cabeçalho e entregue esta folha junto com a resolução do trabalho.
- ★ Fique atento ao prazo de entrega.
- ★ Leia o que está sendo solicitado, desenvolva seu trabalho calmamente e releia-o antes de entregá-lo.
- ★ Não utilize corretivos (*liquid paper*). Faça um rascunho e depois passe a limpo seu trabalho.

INSTRUÇÕES

- **AS QUESTÕES OBRIGATORIAMENTE DEVEM SER ENTREGUES EM UMA FOLHA À PARTE COM ESTA EM ANEXO.**

1) Qual a importância dos Montes Urais, localizado na Rússia, em relação ao continente europeu?

2) **Não se anda com segurança nas ruas de São Petersburgo ou Moscou. Há prostitutas de 14, 15 anos. Os velhos estão morrendo, pois praticamente não há assistência do Estado. Os cientistas migraram, a corrupção é ainda mais explícita do que no tempo do socialismo. Mas é verdade que se pode comprar uma BMW, jeans, big sanduiches, e outras maravilhas do capitalismo.**

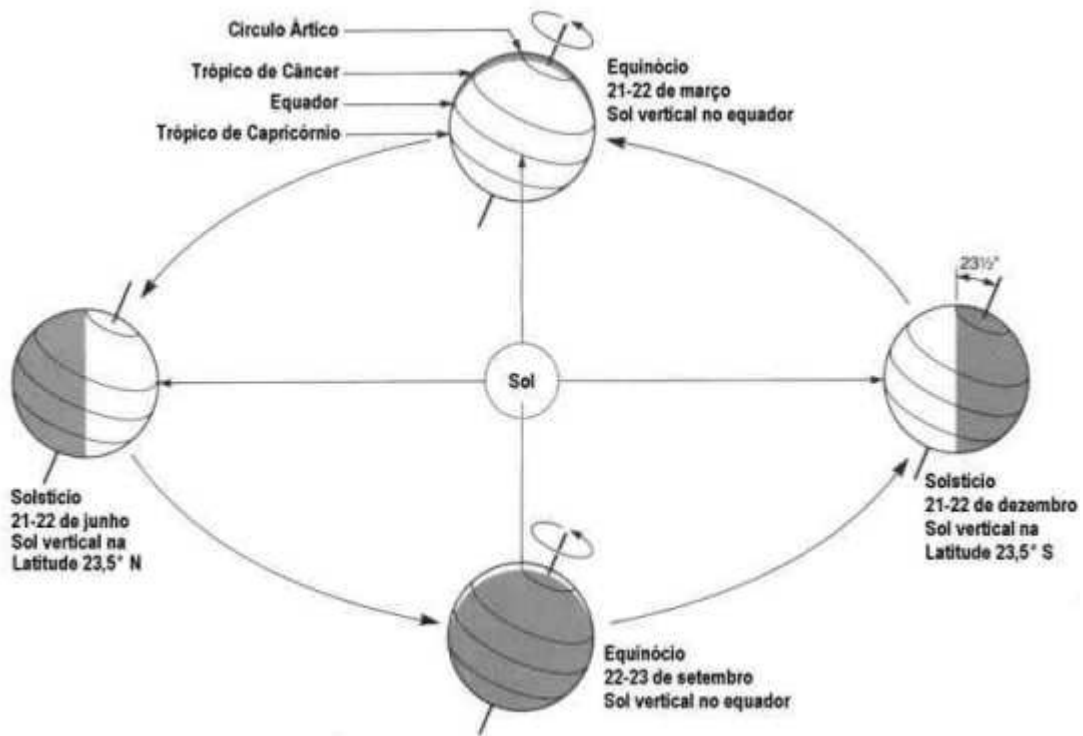
Teça comentários sobre a situação atual da Rússia, comparando-a com o status da URSS, durante o período da Guerra Fria.

3) Explique em que consistiu a política da perestroika e da glasnot. Elas atingiram seus objetivos?

4) Diferencie a Europa Ocidental da Europa Oriental, em termos econômicos e sociais. Apresente um exemplo de país para cada uma dessas regiões da Europa.

5) Por quais motivos podemos afirmar que a Europa é um dos continentes mais desenvolvidos em relação ao nosso sistema econômico capitalista?

6 – Com base na figura abaixo, **explique** o principal fator que interfere na duração dos dias e noites nas regiões polares.



7 - A imagem abaixo representa um fenômeno natural de grande beleza nas regiões polares, a Aurora Boreal.



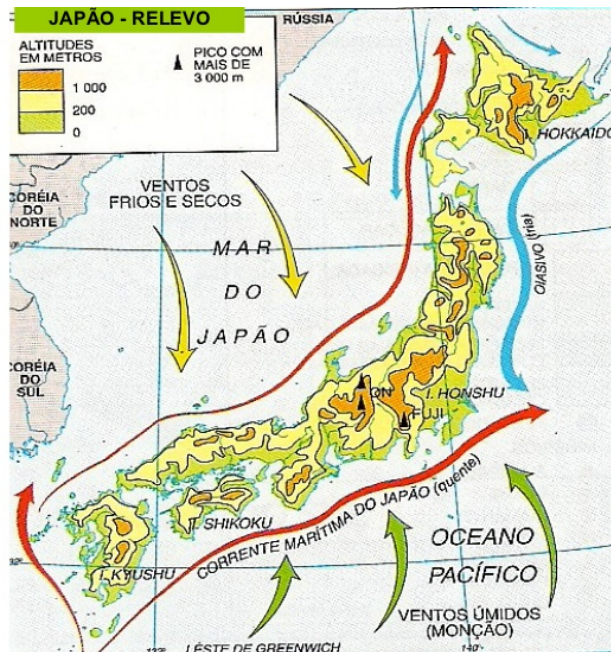
**Cite** os agentes naturais que promovem esse fenômeno

8 - Os aspectos físicos de um determinado local possuem sempre uma forte interdependência. Isso quer dizer que, apesar de estudarmos climas, solos, relevo, vegetação e hidrografia separadamente para fins didáticos, eles atuam de forma conjunta e dinâmica, onde um sempre influencia no outro. Sendo assim, estabeleça uma relação entre clima, solo e vegetação nas regiões polares.

9 - Por que podemos dizer que a região do globo onde o Japão se localiza é uma região de grande instabilidade geológica?

**10** - O relevo de uma determinada área está relacionado aos agentes internos e externos de sua formação. Os agentes internos se referem aos processos que têm sua origem no interior da Terra.

**Relacione** o relevo japonês com os processos geológicos que ocorrem na área onde se localiza o país.

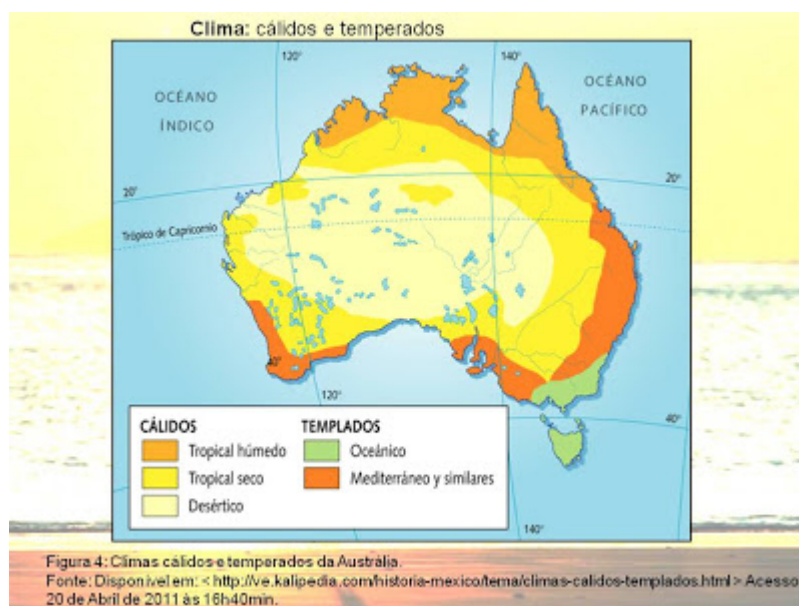


**11** - Por que o envelhecimento da população e o crescimento vegetativo quase nulo têm preocupado as autoridades japonesas?

**12** - Os *Dekasseguis* são descendentes de japoneses que vivem fora do país e passaram a imigrar para o Japão após a década de 1980, no fim do *boom* econômico do país. Essa imigração dos *dekasseguis* deve ser analisada no contexto do fim do alto crescimento econômico junto a atual estrutura demográfica japonesa.

**Relacione** o fenômeno da imigração dos *dekasseguis* com a baixa taxa de natalidade japonesa.

**13 -Aponte** a principal consequência, em termos populacionais, da ocorrência de grande área desértica no território australiano.



**14** - Podemos dizer que todo o continente da Oceania é desenvolvido sócio-economicamente? Justifique sua resposta.

**15** - Austrália e Nova Zelândia se destacam na Oceania como as principais potências econômicas do continente. Apesar de seu desenvolvimento histórico ter sido conflituoso nas relações da potência colonizadora (Inglaterra) com a população nativa, esses dois países possuem alto grau de desenvolvimento e são considerados países do Norte. Diante da afirmação acima, **identifique** as principais atividades econômicas que fortalecem a economia da Austrália e Nova Zelândia .