

CONTEÚDOS DA 2ª SÉRIE – 1º/2º BIMESTRE 2015 – TRABALHO DE DEPENDÊNCIA

Nome: _____ N.º: _____

Turma: _____ Professor(a): Lucas Data: ____/____/2015

Unidade: Cascadura Mananciais Méier Taquara

Resultado / Rubrica

Valor Total 10,0 pontos


INSTRUÇÕES

- ★ Desenvolva seu trabalho apenas com **caneta** azul ou preta.
- ★ Preencha corretamente o cabeçalho e entregue esta folha junto com a resolução do trabalho.
- ★ Fique atento ao prazo de entrega.
- ★ Leia o que está sendo solicitado, desenvolva seu trabalho calmamente e releia-o antes de entregá-lo.
- ★ Não utilize corretivos (*liquid paper*). Faça um rascunho e depois passe a limpo seu trabalho.

INSTRUÇÕES

- **AS QUESTÕES OBRIGATORIAMENTE DEVEM SER ENTREGUES EM UMA FOLHA À PARTE COM ESTA EM ANEXO.**

1) A partir do século XVIII, a ciência ingressou em um constante processo de evolução, que desencadeou uma série de novas tecnologias que transformaram de forma rápida a vida do homem, sobretudo, no modo de produzir mercadorias. Nesse último caso, serviu principalmente ao setor industrial, acelerando o desenvolvimento do sistema capitalista. Essa acelerada transformação no setor produtivo industrial é denominada historicamente como Revolução Industrial.



De acordo com o trecho lido e com seus conhecimentos, **aponte** as principais características da primeira revolução industrial.

2) A partir de 1870, uma nova onda tecnológica sedimentou a chamada Segunda Revolução Industrial. Nessa nova etapa, o emprego da energia elétrica, o uso do motor à explosão, os corantes sintéticos e a invenção do telégrafo estipularam a exploração de novos mercados e a aceleração do ritmo industrial. Dessa forma, percebemos que vários cientistas passaram a se debruçar na elaboração de teorias e máquinas capazes de reduzir os custos e o tempo de fabricação de produtos que pudessem ser consumidos em escalas cada vez maiores.

Cite países que participaram ativamente da segunda revolução industrial.

3) Observe:



Jornal do Brasil, 19 de fevereiro de 1997.

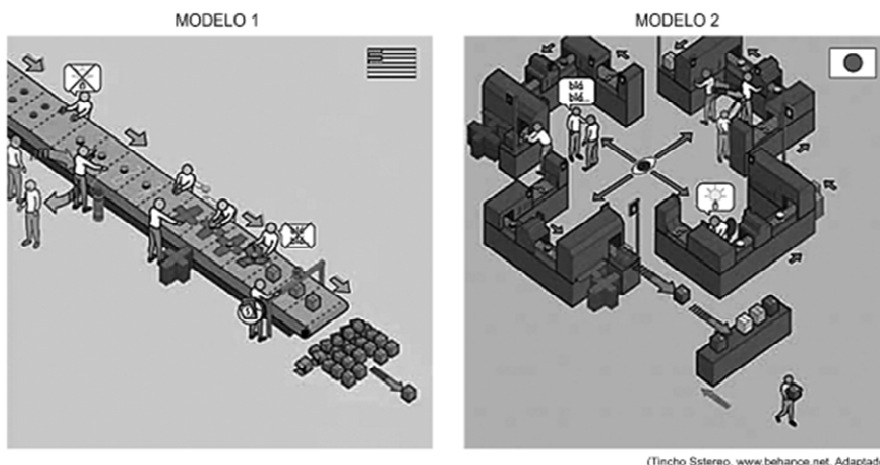
A tirinha acima traz consigo críticas sobre a revolução industrial e sobre o modo como era organizado as etapas de trabalho nas empresas.

Com base na tirinha, e de acordo com o que foi trabalhado em sala, **comente** sobre a fase do capitalismo industrial, **destacando** a organização do trabalho nas indústrias.

4) As novas formas de organização da produção industrial foram chamadas por alguns autores de pós-fordismo, para diferenciá-las da produção fordista.

Apresente dois aspectos do processo industrial fordista e dois do pós-fordista.

5) As figuras ilustram dois modelos de organização da produção industrial que revolucionaram o mundo do trabalho durante o século XX.



Identifique esses modelos.

.Modelo 1 - _____.

.Modelo 2 - _____.

6) Os países subdesenvolvidos que se industrializaram durante o século XX basearam-se em modelos diferentes de implementação de sua atividade fabril, o que gerou quadros sociais e econômicos consideravelmente distintos entre eles.

Observe a tabela abaixo:

Taxa de crescimento do PIB (%)
 (média anual para o período)

País/Território	1980-1990	1990-2000	2000-2005
Brasil	2,7	2,9	2,2
México	1,1	3,1	1,9
Argentina	- 0,7	4,3	2,2
Coreia do Sul	8,9	5,7	4,6
Cingapura	6,7	7,8	4,2
Hong Kong	6,9	4,0	4,3

Adaptado de www.scipione.com.br

Indique duas características do modelo de industrialização adotado pelos países latino-americanos presentes na tabela acima.

7) A industrialização norte-americana começou no nordeste do país e se espalhou pela região dos Grandes Lagos, com setores como o siderúrgico, o naval e o automobilístico. Contudo, com a revolução técnico-científica e informacional, novos padrões de distribuição e produção industrial foram inseridos.

Considerando o processo descrito, **apresente** os tipos de indústrias que caracterizam o novo padrão industrial americano.

8) A economia dos Estados Unidos é a maior do mundo, apresentando destaque nos diversos setores econômicos. A economia norte-americana funciona totalmente dentro dos parâmetros capitalistas. Com um mercado consumidor interno forte, a produção dos Estados Unidos também visa as exportações. O país produz grande quantidade de gêneros agro-pecuários, porém se destaca na produção de produtos industrializados e tecnologia.

Comente sobre a distribuição geográfica das indústrias norte americanas.

9) Na década de 1980 Gorbatchev fez uma série de reformas na ex-URSS para tentar tirar o país da recessão econômica e reduzir as insatisfações da sociedade.

A imagem abaixo retrata parte dessa reforma proposta.



Figura 2 – *O Globo*, 09/12/1988, p. 4.

Que projeto de Gorbatchev é evidenciado na imagem? **Explique** esse projeto.

10) Observe a charge:



O modelo de substituição de importações foi suficiente para sustentar a industrialização dos países emergentes?
Justifique.

11) A denominação de "Tigres Asiáticos" é dada ao grupo de países que, na década de 80, apresentaram um crescimento econômico elevado e repentino baseado em táticas agressivas de atração de capital estrangeiro, como a isenção de impostos e mão-de-obra barata, e fudamentaram-se em um modelo de "Plataforma de Exportação".

Explique o que é o modelo chamado de "Plataforma de Exportação".

12) "...grandes conglomerados empresariais originados dos clãs familiares, como a Mitsubishi, a Mitsui, a Sumitomo, a Yasuda, dentre outros, que passaram a dominar cada vez mais a economia japonesa, atuando praticamente em todos os setores industriais"



O texto acima refere-se a empresas monopolistas japonesas que ganharam força ao longo dos anos em todo o mundo.

Apresente a nomenclatura em que essas empresas ficaram conhecidas, e duas de suas características.

13) O advento das Revoluções Industriais, juntamente com a intensificação do processo de urbanização, fez com que a utilização das fontes energéticas tivesse um aumento extraordinário. O atual modelo capitalista é altamente dependente de recursos energéticos para o funcionamento das máquinas industriais e agrícolas.



Indique a fonte de energia mais utilizada durante a Revolução Industrial, **apresentando** também um problema ambiental gerado pelo uso intensivo dessa fonte.

14) A energia eólica tem aumentado sua participação entre as alternativas não-poluentes de geração energética. Uma das zonas preferenciais para o aproveitamento da energia eólica são as áreas costeiras.

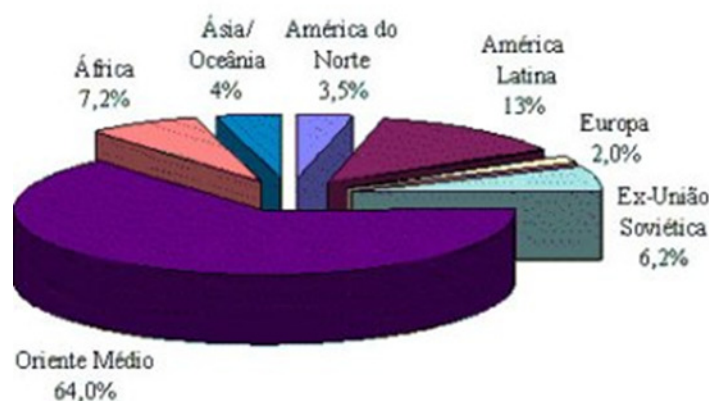


Explique a razão do elevado potencial de geração de energia eólica em áreas costeiras-litorâneas.

15) "De 1998 para cá, o preço do petróleo foi multiplicado por sete. A procura pelo produto, com o vigoroso crescimento mundial, aproximou-se da capacidade de produção."

Aponte as principais razões do aumento da demanda por petróleo em período recente.

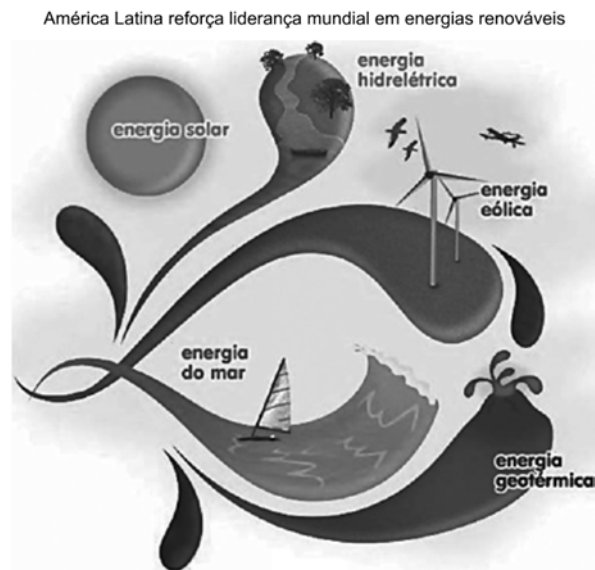
16) Analise:



O gráfico acima mostra a expressiva participação do Oriente Médio na produção de petróleo em escala mundial.

De acordo com o que foi discutido em sala de aula e com base no gráfico, **faça uma relação** entre a produção de petróleo, o interesse mundial nesse recurso e o desenvolvimento de conflitos ligados a ele.

17) Observe a imagem e leia o texto a seguir:



Com 30% da produção de energias renováveis, em 2011, a América Latina se encontra, ainda hoje, na vanguarda do setor no mundo. Para lideranças políticas latino-americanas, o tema é muito importante, porque se vive em um mundo com recursos limitados, sobretudo em hidrocarbonetos. Assim, quanto mais rápida for realizada a mudança total à utilização de energia renovável, melhor para todos.

Explique o que são energias renováveis e **indique** uma vantagem em relação a sua utilização.

18) A posição do Japão no sistema mundial vem assumindo notável proeminência, com especial destaque no período que se segue à Segunda Guerra Mundial. Isto significa dizer que a presença japonesa pelo mundo afora se traduz, mais explicitamente, pela crescente conquista de fatias do mercado internacional.




Situe o Japão no sistema global na atualidade, **apontando** também uma cidade global japonesa.

19) Na nova ordem mundial, a tendência de globalização acelerou o processo de mundialização da produção graças à expansão dos conglomerados multinacionais. No mundo pós-Guerra Fria, o poder é medido pela capacidade econômica: disponibilidade de capitais, avanço tecnológico, qualificação da mão-de-obra, nível de produtividade e índices de competitividade.

Usando os indicadores apresentados acima, **situe** o Brasil na economia globalizada.

20) Reflita sobre a imagem abaixo:



A partir da interpretação da imagem e com base em seus conhecimentos adquiridos em sala de aula, **relacione** o processo de mundialização do capital com o avanço das atuações das empresas multinacionais.