

CONTEÚDOS DA 2ª SÉRIE – 3º/4º BIMESTRE 2015 – TRABALHO DE DEPENDÊNCIA

Nome: _____ N.º: _____

Turma: _____ Professor(a): Thadeu Data: ____/____/2015

Unidade: Cascadura Mananciais Méier Taquara

Resultado / Rubrica

Valor Total 10,0 pontos

INSTRUÇÕES

- ★ Desenvolva seu trabalho apenas com **caneta** azul ou preta.
- ★ Preencha corretamente o cabeçalho e entregue esta folha junto com a resolução do trabalho.
- ★ Fique atento ao prazo de entrega.
- ★ Leia o que está sendo solicitado, desenvolva seu trabalho calmamente e releia-o antes de entregá-lo.
- ★ Não utilize corretivos (*liquid paper*). Faça um rascunho e depois passe a limpo seu trabalho.

INSTRUÇÕES

- **AS QUESTÕES OBRIGATORIAMENTE DEVEM SER ENTREGUES EM UMA FOLHA À PARTE COM ESTA EM ANEXO.**

1- Explique os indicadores demográficos abaixo:

(A) Crescimento Vegetativo: (B) Expectativa de Vida: (C) Taxa de Mortalidade: (D) Taxa de Mortalidade Infantil:

2- Os dados da tabela mostram uma tendência de diminuição, no Brasil, do número de filhos por mulher.

Evolução das taxas de fecundidade IBGE Contagem da População de 1996.

Época	Número de filhos por mulher
Século XX	7
1960	6,2
1980	4,01
1991	2,9
1996	2,32

Aponte uma explicação para essas mudanças nas taxas de fecundidade ao longo das décadas.

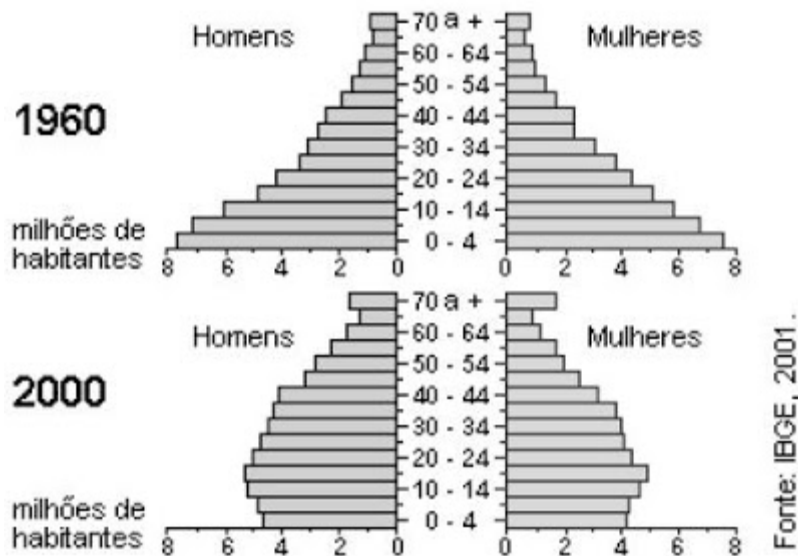
3- Observe a tabela a seguir e responda:

Crescimento demográfico nos Continentes (%)

Continente	1970-1975	1980-85	1990-95	2000-2005	2010-2015
África	2,56	2,86	2,81	2,56	2,37
Ásia	2,27	1,89	1,64	1,38	1,15
Europa	0,80	0,38	0,15	0,00	0,06
América Latina	2,44	2,11	1,84	1,50	1,20
América Norte	1,10	0,93	1,05	0,81	0,78
Oceania	2,09	1,50	1,54	1,31	1,18

IDENTIFIQUE as modificações ocorridas na EUROPA.

4- IDENTIFIQUE duas mudanças nas pirâmides etárias do Brasil dos anos 60 até 2000:



5 - **Assim a população cresceria em progressão geométrica e a produção de alimentos numa progressão aritmética.**

Aponte a Teoria que analisou o crescimento da população em comparação à produção de alimentos.

Responder a questão 6 e 7 com base no texto abaixo.

CRESCIMENTO DA POPULAÇÃO

(...) O *Homo Sapiens* surgiu há 100 mil anos. Há 10 mil anos, o *Homo Sapiens* já se espalhara pelos cinco continentes, e seus múltiplos contingentes somavam, no mundo, segundo supõem alguns cientistas, cerca de 5 milhões de indivíduos. (...) No tempo de Cristo, a vida média do ser humano seria da ordem de 27 anos, assim permanecendo até ao redor do ano 1000. Passaram-se alguns séculos, chegou-se ao ano 1750 e a população do mundo alcançou cerca de 800 milhões de indivíduos. Ao se iniciar a Era Industrial (1800 a 2000) calcula-se que havia cerca de 1 bilhão de seres humanos habitando a Terra. A ciência e a tecnologia avançaram, a medicina se aperfeiçoou. Descobriram-se a vacinação e a assepsia, a oferta de alimentos cresceu, a vida média do ser humano beirava talvez os 40 anos por volta do ano 1800.

A população da Terra cresceu e em 1930 alcançou o segundo bilhão de pessoas. A partir de então se descobriram os antibióticos, sintetizaram-se as vitaminas, aperfeiçoaram-se a prevenção e o tratamento das moléstias. Elevou-se a produção de alimentos e as safras puderam ser armazenadas e transportadas em grandes volumes e a grandes distâncias, regularizando-se a sua distribuição. Neste final de século XX, somos mais de 6 bilhões de seres humanos, vivendo à custa de recursos minerais limitados, de plantações e pastagens feitas em terrenos antes ocupados por florestas e animais silvestres, necessitando de grande quantidade de água potável, poluindo os rios e oceanos com um volume de fezes que chega diariamente a 6 milhões de toneladas. (...)

(SANTOS, Rubens R. dos. *Uma visão do futuro* – avaliação do que é relevante na passagem do milênio. São Paulo: Nobel, 1999. p. 148-149)

6 -Qual a provável relação existente entre a Era Industrial e o crescimento populacional?

7 Segundo o autor, que razões explicam o grande crescimento populacional no século XX?

8 De acordo com os fluxos migratórios no Brasil, identifique os fluxos migratórios dos anos 50 e 60.

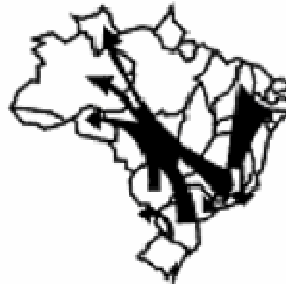
Décadas de 50 e de 60



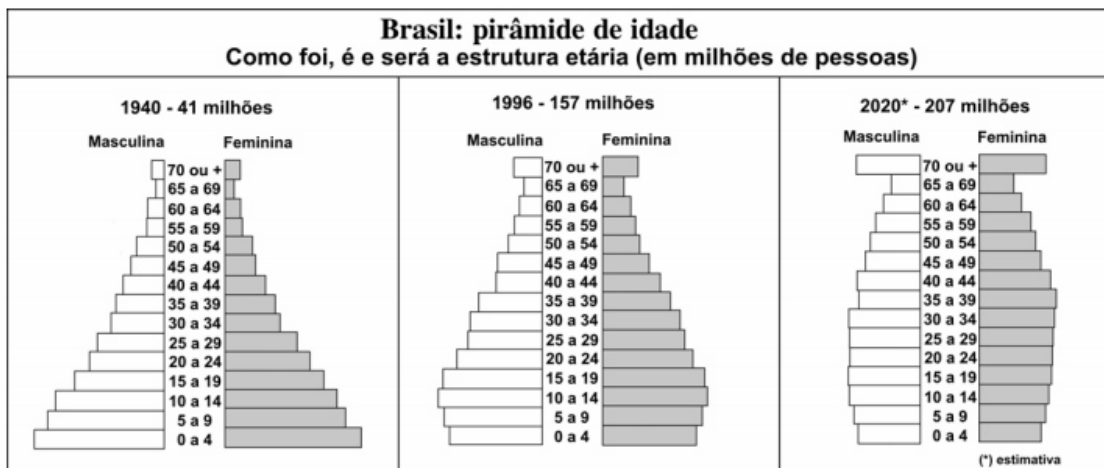
Décadas de 60 e de 70



Décadas de 70 e de 80



Analise as pirâmides etárias a seguir e responda às questões propostas (9,10 e 11).
 Analise as pirâmides etárias a seguir e responda às questões propostas.



9 O que é pirâmide etária ou de idades?

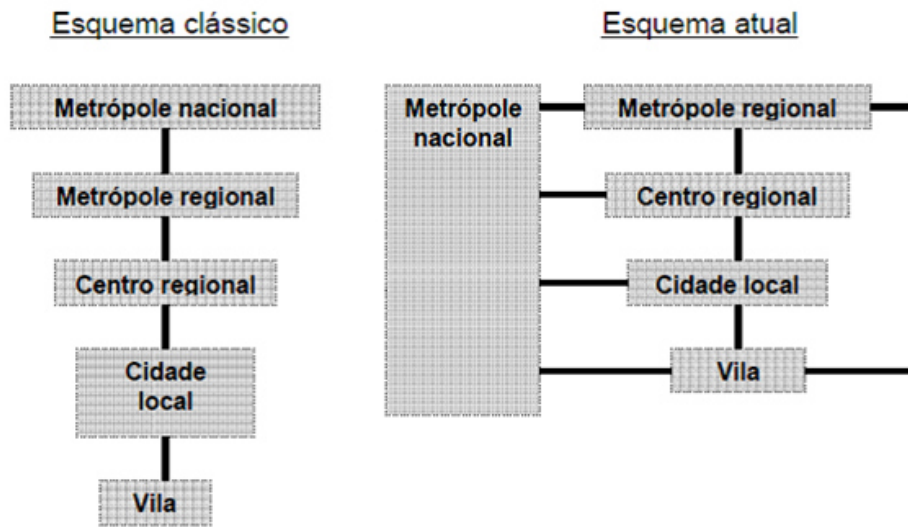
10 O que as pirâmides apresentadas acima revelam a respeito da dinâmica demográfica brasileira?

11 Qual a importância das pirâmides etárias para os órgãos públicos e para as empresas de planejamento?

12- Aponte três características de uma Cidade Global.

13-Diferencie a estrutura da hierarquia urbana atual da Clássica.

RELAÇÕES ENTRE AS CIDADES EM UMA REDE URBANA



14- Diferencie agricultura e pecuária intensivas das extensivas.

15- Em que consistiu a Revolução Verde?