

CONTEÚDOS DO 7º ANO – 3º/4º BIMESTRE 2016 – TRABALHO DE DEPENDÊNCIA

Nome: \_\_\_\_\_ N.º: \_\_\_\_\_

Turma: \_\_\_\_\_ Professor(a): Giselly Data: \_\_\_\_/\_\_\_\_/2016

Unidade:  Cascadura  Mananciais  Méier  Taquara

Resultado / Rubrica  
Valor Total 10,0 pontos

INSTRUÇÕES

- ★ Desenvolva seu trabalho apenas com **caneta** azul ou preta.
- ★ Preencha corretamente o cabeçalho e entregue esta folha junto com a resolução do trabalho.
- ★ Fique atento ao prazo de entrega.
- ★ Leia o que está sendo solicitado, desenvolva seu trabalho calmamente e releia-o antes de entregá-lo.
- ★ Não utilize corretivos (*liquid paper*). Faça um rascunho e depois passe a limpo seu trabalho.

INSTRUÇÕES


- **AS QUESTÕES OBRIGATORIAMENTE DEVEM SER ENTREGUES EM UMA FOLHA À PARTE COM ESTA EM ANEXO.**

1) Leia atentamente o quadrinho:



A tirinha faz uma referência cômica aos mares de morros de Minas Gerais. EXPLIQUE a causa da utilização desse nome e CITE como são classificados os mares de morro?

2) Leia:



Índios Awá



Impacto ambiental na Amazônia

SEBASTIÃO SALGADO  
O Globo, 04/06/2013

No pouco que resta de Floresta Amazônica no Maranhão, vive o povo Awá, conhecido como "o mais ameaçado do planeta". São pouco mais de 400 pessoas, cercadas de municípios que dependem da extração da madeira. Os Awá falam guajá, do tronco Tupi. Só alguns sabem um pouco de português. Eles são um dos últimos povos apenas caçadores e coletores. Vivem da floresta e pela floresta.

A terra dos Awá-Guajá já foi demarcada, homologada e registrada com 116.582 hectares. Ela está dentro da Reserva Biológica do Gurupi, que foi criada pelo presidente Jânio Quadros em 1961 e tem o mais alto nível de proteção ambiental. Mesmo assim, sofre a ação de criadores de gado, plantadores de soja e madeireiros derrubando a floresta e encurralando os índios.

MIRIAM LEITÃO. Adaptado de *O Globo*, 04/08/2013.

Com base no texto, CITE dois fatores que ameaçam a preservação do domínio amazônico e das reservas indígenas.

Observe o mapa a seguir e responda as questões **3** e **4**:



3) O Nordeste é a Região brasileira que possui a maior quantidade de estados, nove ao todo. Em razão das diferentes características físicas que apresenta, a Região Nordeste é dividida em quatro sub-regiões.

RELACIONE o número apresentado no mapa, com cada sub-região Nordestina.

4) Essa sub-região constitui uma região de transição entre a zona da mata e o sertão. Afinal, nas áreas mais elevadas, onde as temperaturas são mais baixas e a umidade mais alta, destaca-se mata; nas áreas mais secas, a vegetação da caatinga. Nas áreas elevadas e úmidas, também são encontrados os brejos. Sua ocupação se caracteriza por atividades de policultura, com destaque para algodão ,feijão ,milho e mandioca, especialmente nas áreas mais úmidas, e para a pecuária ovina, nas áreas mais secas.

Observando as características do texto, INDIQUE a qual número pertence essa sub-região do Nordeste.

5) A respeito da bacia do rio São Francisco, cujo objeto de estudo tem sido motivo de amplos debates no cenário político e econômico nacional, CITE um aspecto **positivo** e outro **negativo** a respeito desse Rio.

6) Com base na charge a seguir, EXPLIQUE o termo "Indústria da Seca".



7) Leia:

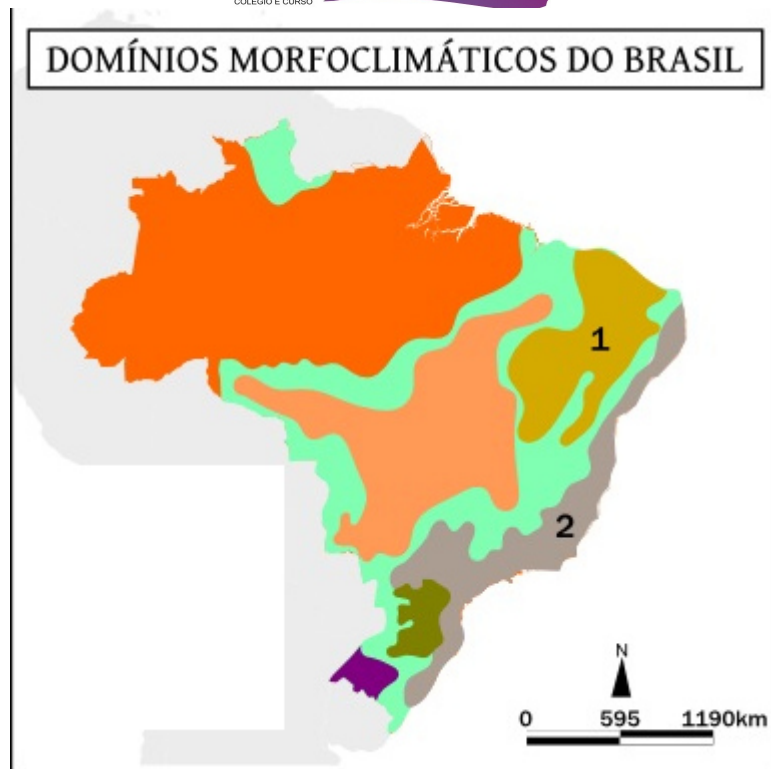
# Produção industrial puxa crescimento do Nordeste, diz BC

RICARDO LEOPOLDO, ENVIADO ESPECIAL DA AGÊNCIA ESTADO  
08 Maio 2014 | 15h 34

Região tem crescido acima da média do País nos últimos anos

A partir da reportagem, EXPLIQUE os fatores que estão levando a esse crescimento industrial no Nordeste.

8) Um domínio morfoclimático representa a combinação de uma série de elementos da natureza: relevos, climas, vegetações. A interação desses elementos formam as unidades paisagísticas.

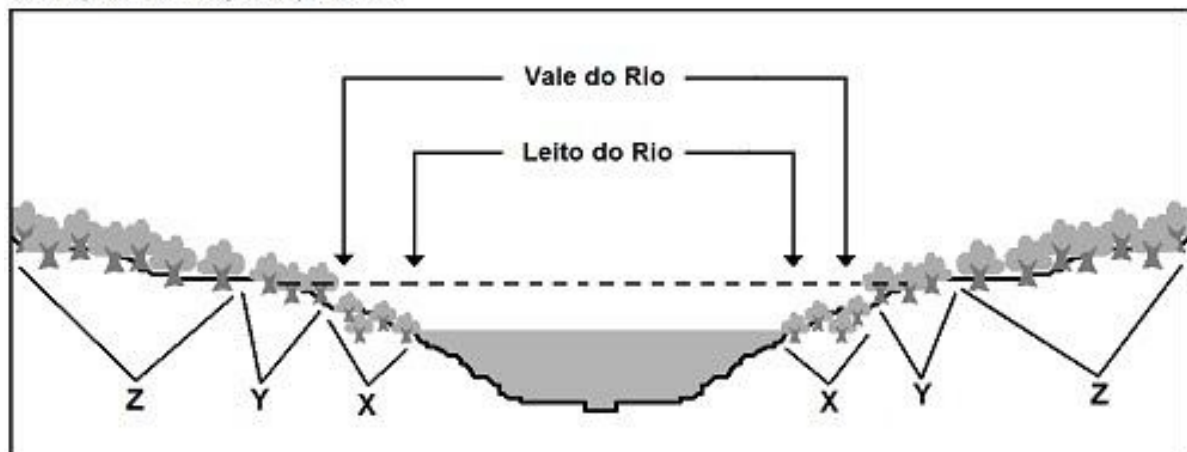


Com base nas informações acima, CITE as principais características do domínio morfoclimático, representado pelo número **1**.

UTILIZE O TEXTO E A IMAGEM ABAIXO PARA FAZER AS QUESTÕES 9 E 10

A **Floresta Amazônica** é a maior floresta do Brasil, ocupando praticamente a metade do território brasileiro, além de ocupar também o território de outros países. Apresenta vegetação complexa e diferenciada, conforme as variações do relevo, da umidade e dos tipos de solo encontrados na região.

### AS MATAS AMAZÔNICAS



FONTE: Geografia: a construção do mundo - Demetrio Magnoli  
Ed. Moderna, 2005. Pág.106.

Com base no texto e na imagem acima, responda:

9) CITE respectivamente, o nome das áreas, representadas pelas letras X, Y e Z.

10) EXPLIQUE as principais características da área representada pela letra X.

11) Biodiversidade refere-se à variedade de seres vivos que habitam determinado ambiente ou domínio natural. A floresta Amazônica apresenta uma das maiores biodiversidade do mundo. A partir da afirmação e da charge abaixo, EXPLIQUE no que consiste a biopirataria.

**FOLIA**



UTILIZE O MAPA ABAIXO PARA FAZER AS QUESTÕES 12 E 13



12) INDIQUE no mapa as regiões Geoeconômicas.

13) CITE duas características de cada Região Geoeconômica.

UTILIZE O MAPA ABAIXO PARA FAZER AS QUESTÕES 14 E 15

**BRASIL REGIÕES**



[www.santiagosiqueira.pro.br](http://www.santiagosiqueira.pro.br)

- 14) INDIQUE o nome de cada região do Brasil, segundo o IBGE.
- 15) ESCOLHA uma região e COMENTE suas principais características.