

CONTEÚDOS DO 9º ANO – 3º/4º BIMESTRE 2016 – TRABALHO DE DEPENDÊNCIA

Nome: \_\_\_\_\_ N.º: \_\_\_\_\_

Turma: \_\_\_\_\_ Professor(a): Gabriel Data: \_\_\_\_/\_\_\_\_/2016

Unidade:  Cascadura  Mananciais  Méier  Taquara

Resultado / Rubrica  
 Valor Total 10,0 pontos

INSTRUÇÕES

- ★ Desenvolva seu trabalho apenas com **caneta** azul ou preta.
- ★ Preencha corretamente o cabeçalho e entregue esta folha junto com a resolução do trabalho.
- ★ Fique atento ao prazo de entrega.
- ★ Leia o que está sendo solicitado, desenvolva seu trabalho calmamente e releia-o antes de entregá-lo.
- ★ Não utilize corretivos (*liquid paper*). Faça um rascunho e depois passe a limpo seu trabalho.

INSTRUÇÕES

**• AS QUESTÕES OBRIGATORIAMENTE DEVEM SER ENTREGUES EM UMA FOLHA À PARTE COM ESTA EM ANEXO.**

1) Assistimos na Europa um aumento da xenofobia e do neonazismo. Aponte fatores que podem estar contribuindo para esse processo. APONTE os grupos que mais sofrem hoje na Europa com o crescimento da xenofobia.

2) Estudo mostra países europeus com maior expectativa de vida.

"A Suécia é o país da Europa com a maior expectativa de vida para os homens (de 79,6 anos em 2010) e também onde os idosos vivem mais tempo em boa saúde, segundo estatísticas publicadas nesta quinta-feira pelo Instituto Nacional de Pesquisa e de saúde médica (Inserm). A França e a Espanha são os países onde as mulheres vivem mais."

Os países europeus apresentam uma elevada expectativa de vida. CITE os fatores que levaram a esse quadro e QUAIS são as possíveis consequências negativas?

3)

**Europa: taxas de natalidade e mortalidade**

**Natalidade, mortalidade e migração em alguns países da Europa (2011)**

País	Natalidade (%)	Mortalidade (%)	Migração (%)
Alemanha	8,30	10,92	0,54
Portugal	9,94	10,80	2,98
Áustria	8,67	10,14	1,81
Bulgária	9,32	14,32	-2,82
Bielorrússia	9,76	13,77	0,38
Ucrânia	9,62	15,74	-0,09
Letônia	9,96	13,60	-2,33

Fonte de pesquisa: CIA. The World Factbook. Disponível em: <http://www.cia.gov/library/publications/the-world-factbook/>. Acesso em: 20 ago. 2011.

CITE e EXPLIQUE pelo menos dois fatores que justificam as atuais taxas de natalidade na maioria dos países da Europa.

4) Com base em seus conhecimentos, JUSTIFIQUE o predomínio de climas temperados no continente europeu. Em seguida, explique por que mesmo que o clima predominante no continente europeu seja o temperado, encontramos áreas de clima frio, mesmo mais ao sul da Europa.

5) Analise a imagem abaixo e leia o texto a seguir:



Até 1991, a Iugoslávia era um país federativo, formado por seis repúblicas e duas regiões autônomas pertencentes à Sérvia. O conflito dos Balcãs, no decorrer desta década, levou a Iugoslávia a se fragmentar em várias repúblicas independentes.

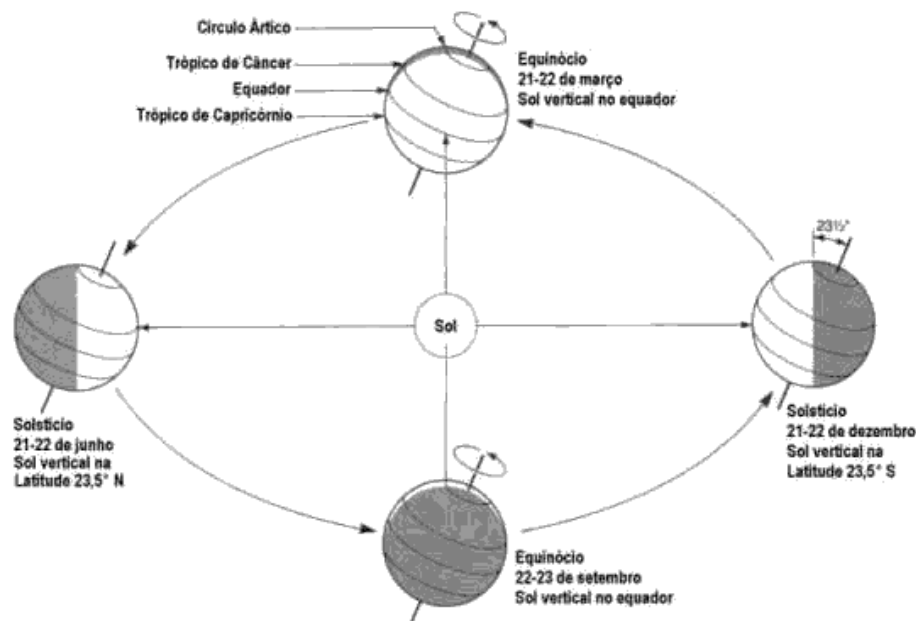
COMENTE sobre essa questão e APRESENTE motivos que explicitem esse processo de desintegração da Iugoslávia.

6) As temperaturas médias na região central do continente variam entre  $-30^{\circ}\text{C}$  e  $-65^{\circ}\text{C}$ ; a menor temperatura do mundo foi documentada na região:  $-89,2^{\circ}\text{C}$ , no dia 21 de Julho de 1983. Atualmente, após o Tratado da Antártica, vários países passaram a manter bases de pesquisa na região. Vale ressaltar que a Antártica é uma zona politicamente neutra e que não pertence a nenhum país, sendo, sobretudo, uma área de preservação científica. Em 1991 foi estabelecido assinado um novo acordo, chamado de Protocolo de Madrid.

EXPLIQUE o que consistia o Protocolo de Madrid, assinado em 1991.

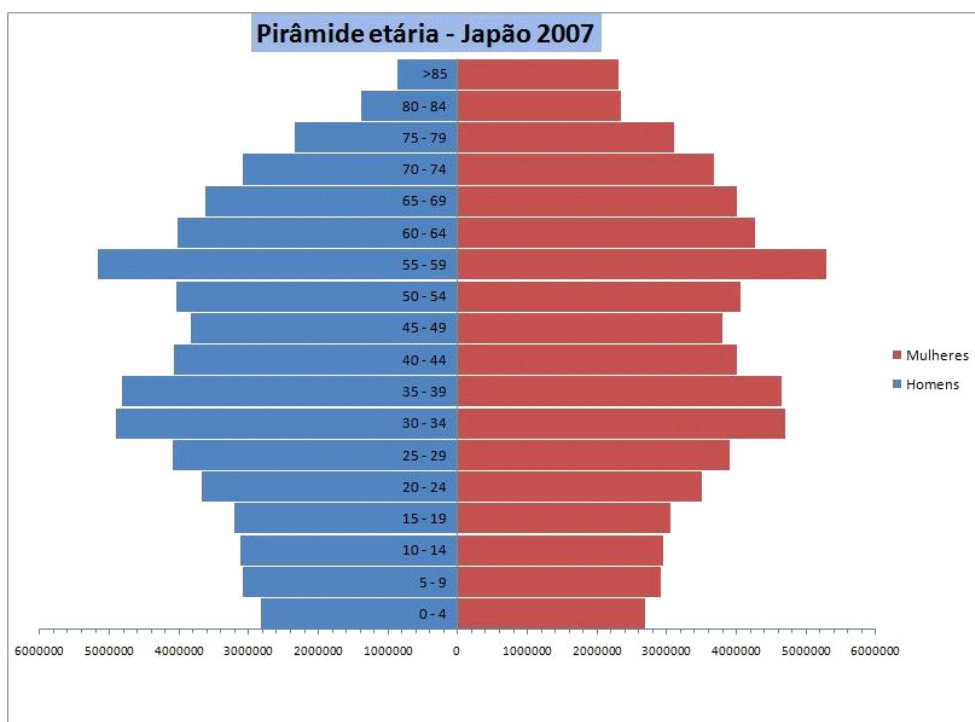
7) APONTE os recursos naturais de maior valor econômico no continente antártico e quais os impactos de sua exploração para o meio ambiente da região e para suas reservas de água?

8)



Com base na figura acima, EXPLIQUE o que são solstícios e equinócios. Em seguida EXPLIQUE a ocorrência do fenômeno dos dias e noites eternas nas regiões polares.

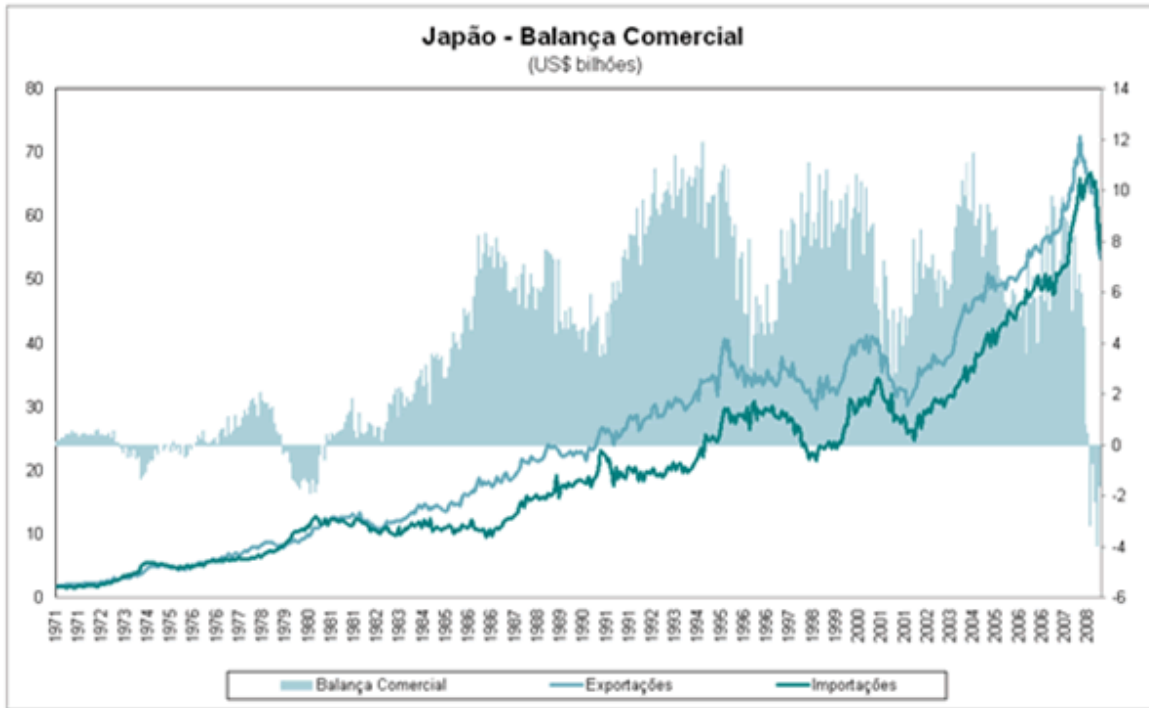
9)



A população japonesa vem passando por um processo de envelhecimento em sua estrutura. Tal processo está evidenciado na pirâmide etária do país. Sendo assim, IDENTIFIQUE de que forma a pirâmide acima nos mostra esse envelhecimento, EXPLICANDO suas principais causas e consequências para a economia do país.

10) O Japão é um país que fica localizado em uma região do planeta Terra conhecida por "círculo de fogo do pacífico". Tal denominação remete as condições geológicas que estão presentes na área e que acabam por ter influência na formação do relevo local. Considerando o relevo do Japão, EXPLIQUE os principais processos geológicos que o formaram e mencione seus reflexos nas atividades agrárias do país.

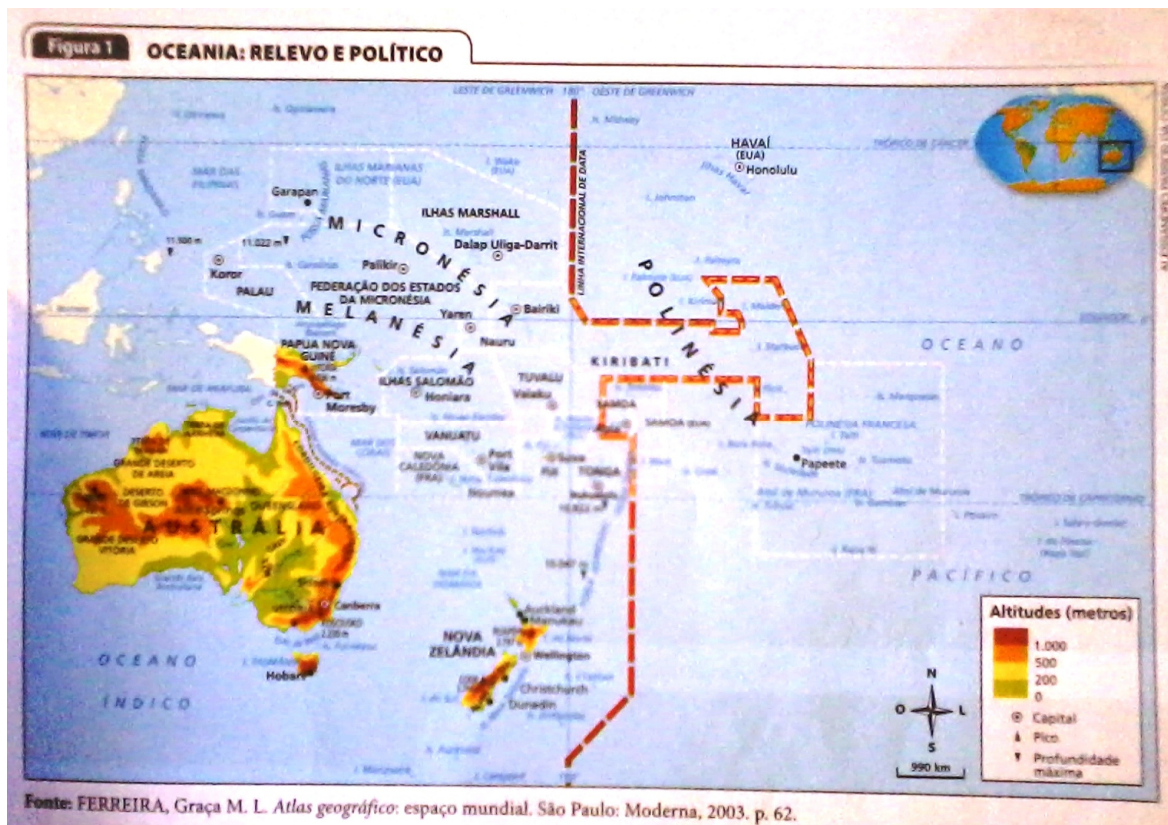
11)



O gráfico acima mostra o crescimento da economia japonesa a partir dos anos 70. Sabemos entretanto que tal crescimento teve origem desde o fim da segunda guerra mundial. **INDIQUE** três razões importantes que concorreram para o grande desenvolvimento industrial do Japão, após a Segunda Guerra Mundial.

**12)** DISCORRA sobre as principais características da economia da Oceania, destacando as disparidades econômicas entre os países que a integram.

13)



A Oceania apresenta três conjuntos de ilhas, que são divididas em Micronésia, Melanésia e Polinésia. Conforme o texto e seus conhecimentos, APONTE as principais características de cada um desses conjuntos de ilhas.

**14)** APONTE dois acontecimentos ocorridos no continente europeu no final dos anos 80 e início dos anos 90 que levaram à crise do socialismo e consequentemente ao fim da URSS. Em seguida, COMENTE sobre a situação econômica da Rússia no início dos anos 90.

**15)** Desde a década de 1990 têm sido elaborados planos de organização e modernização de empresas agrícolas adaptadas às regras de mercado. Apesar de todos os problemas, a Rússia, principal Estado da CEI, ainda é uma grande produtora agrícola, destacando-se na produção mundial de cevada, aveia, centeio (primeiro lugar mundial), batata (segundo lugar) e trigo (terceiro lugar). RELACIONE as características naturais à produção agropecuária na Rússia. Como a natureza influencia na organização do espaço agrário desse país?