

CONTEÚDOS do 6º ANO – 3º/4º BIMESTRE 2017 – TRABALHO DE DEPENDÊNCIA

Nome: \_\_\_\_\_ N.º: \_\_\_\_\_

Turma: \_\_\_\_\_ Professor(a): Heitor Data: \_\_\_\_/\_\_\_\_/2017

Unidade:  Cascadura  Mananciais  Méier  Taquara

Resultado / Rubrica

Valor Total 10,0 pontos

INSTRUÇÕES

- ★ Desenvolva seu trabalho apenas com **caneta** azul ou preta.
- ★ Preencha corretamente o cabeçalho e entregue esta folha junto com a resolução do trabalho.
- ★ Fique atento ao prazo de entrega.
- ★ Leia o que está sendo solicitado, desenvolva seu trabalho calmamente e releia-o antes de entregá-lo.
- ★ Não utilize corretivos (*liquid paper*). Faça um rascunho e depois passe a limpo seu trabalho.

INSTRUÇÕES

- **AS QUESTÕES OBRIGATORIAMENTE DEVEM SER ENTREGUES EM UMA FOLHA À PARTE COM ESTA EM ANEXO.**


Diversos fatores no mundo são definidos de pelo tempo e o clima. Temos como exemplo, as tradições e culturas, os hábitos, relevos e do comércio. Afinal, o que seria do mercado de óculos de sol, guarda-chuva e de casacos se não fossem eles? Com base no texto, responda as questões 1, 2 e 3.

- 1- Explique o que é clima?
- 2- Explique o que é tempo?
- 3- Cite dois fatores que expliquem o clima predominante do Brasil.
- 4- Quando estamos assistindo um jornal na televisão e aparece uma notícia falando de uma frente fria que irá diminuir a temperatura, estamos falando sobre clima ou tempo? Explique sua resposta.
- 5- Observe a imagem abaixo:



A inversão térmica é um fenômeno que atinge diversos países e cidades com intensidades diferentes, geralmente ocorrendo com mais intensidade em grandes centros urbanos. Cite dois impactos negativos da inversão térmica.

De acordo com a figura abaixo, responda as questões 6 e 7.



- 6- Explique como a latitude interfere na temperatura de um país.
- 7- Indique o fator determinante para a presença das estações do ano.
- 8- O clima da região nordeste do Brasil não é semelhante ao clima da região norte, mesmo possuindo latitudes próximas. Por que?
- 9- Observe a manchete a seguir:




07/08/2014 10h55 - Atualizado em 07/08/2014 11h14

## Temperatura cai nesta quinta e geada cobre vegetação na Serra do RJ

A manhã foi a mais fria do estado, com os termômetros marcando 2,6 °C. Geada atingiu os distritos de Teresópolis e Nova Friburgo.

Notícias como a citada acima, são comuns nessa parte do estado do Rio de Janeiro, tornando os moradores acostumados com temperaturas abaixo da média do estado. Por que as pessoas que moram em serras tendem a conviver com temperaturas mais baixas? Cite e explique o principal motivo.

- 10- No Brasil pode-se perceber diversos climas em seu território, como o tropical, subtropical, equatorial, semiárido dentre outros. Eles se devem principalmente a fatores como a maritimidade, continentalidade, latitude e relevo. Sabendo disso, indique 3 características do clima equatorial.
- 11- Observe a imagem abaixo.



A figura acima trata-se de um exemplar de um dos livros do escritor Graciliano Ramos, publicado em 1934, *Vidas Sêcas* consegue retratar através de seus adjetivos uma das características mais marcantes da luta pela sobrevivência na área nordestina, o seu ambiente/bioma, que muitas vezes aparece como um obstáculo para seu povo. Cite 2 características da vegetação nordestina.

12- Responda a questão de acordo com a imagem abaixo.

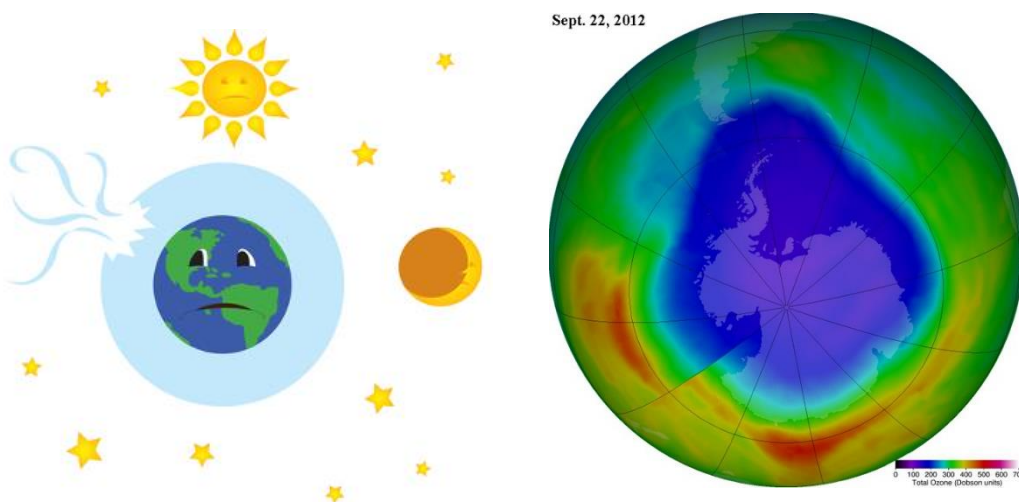


A qual tipo de chuva a imagem se refere?

13- O sudeste asiático possui como característica de sua cultura a produção de arroz, conhecida como rizicultura. A rizicultura necessita de uma quantidade alta de chuvas, bem como de uma região alagada para ter um bom cultivo. Essa possibilidade só existe por causa das monções. Explique como ocorre o fenômeno das monções.

14- As chuvas ácidas são grandes problemas ambientais atuais, apesar de não mostrarem muitos problemas aparentes, a não ser por estatuas perdendo suas respectivas formas e eventuais alergias em determinadas pessoas, elas são capazes de grandes estragos, como por exemplo a mudança de PH (índice de acidez) nos lagos, podendo acarretar na morte de parte da fauna ou até mesmo toda ela. Como ocorrem as chuvas ácidas?

15- Com base nas figuras, responda:

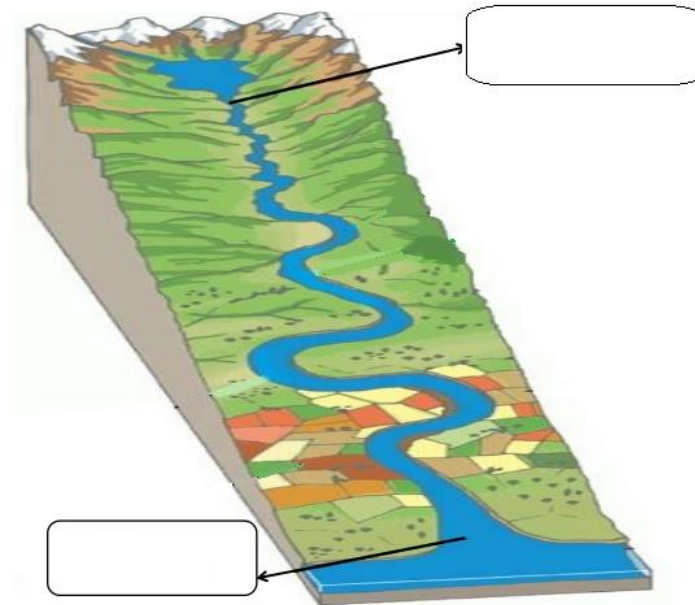


As figuras tratam de um problema sobre um determinado tipo de "camada protetora". Que problema é esse. Explique como ele ocorre.

16 - As ações da erosão marinha atuam em várias áreas da costa de um país, modelando esses ambientes através da força d'água, independentemente do tipo de rocha presente no local, originando também diversos acidentes geográficos. Baseando-se nesse contexto, explique o que são falésias?

17 - "É o maior oceano do mundo, sua localização é entre o continente Asiático e o Americano e também é o mais profundo dos oceanos". Cite o nome do oceano de acordo com as características faladas no texto.

18 - De acordo com a figura, responda:



Qual são os nomes dados as partes do rio indicadas nos balões?