

CONTEÚDOS DA 2ª SÉRIE – 1º/2º BIMESTRE 2017 – TRABALHO DE DEPENDÊNCIA

Nome: \_\_\_\_\_ N.º: \_\_\_\_\_

Turma: \_\_\_\_\_ Professor(a): Tatiana Data: \_\_\_\_/\_\_\_\_/2017

Unidade:  Cascadura  Mananciais  Méier  Taquara

Resultado / Rubrica

Valor Total 10,0 pontos

INSTRUÇÕES

- ★ Desenvolva seu trabalho apenas com **caneta** azul ou preta.
- ★ Preencha corretamente o cabeçalho e entregue esta folha junto com a resolução do trabalho.
- ★ Fique atento ao prazo de entrega.
- ★ Leia o que está sendo solicitado, desenvolva seu trabalho calmamente e releia-o antes de entregá-lo.
- ★ Não utilize corretivos (*liquid paper*). Faça um rascunho e depois passe a limpo seu trabalho.

INSTRUÇÕES

- **AS QUESTÕES OBRIGATORIAMENTE DEVEM SER ENTREGUES EM UMA FOLHA À PARTE COM ESTA EM ANEXO.**

Questão 1 - Para a produção de energia elétrica, faz-se necessário represar um rio, construindo uma barragem, que irá formar um reservatório (lago). A água represada moverá as turbinas, que produzirão a energia. Destaque dois tipos de impactos ambientais provocados por este tipo de produção energética.

Questão 2 - Leia o trecho a seguir e responda ao que se pede:

“Essa forma de industrialização é a que nos interessa mais de perto por ter ocorrido no Brasil. Trata-se de uma industrialização que, como o nome sugere, foi historicamente atrasada em relação à original e ocorreu em muitos países subdesenvolvidos [...]. Foi mais comum no século XX, embora, em alguns casos, tenha se iniciado de forma tímida no fim do século XIX”.

Vesentini, José William. Geografia: o mundo em transição. São Paulo: Editora Ática, 2012. p.67.

Identifique a que tipo de industrialização o texto se refere e cite duas de suas características.

Questão 3 - A Terceira Revolução Industrial, que se iniciou desde a década de 1970, vem impulsionando alterações no que se refere à espacialização de áreas fabris. No atual ciclo de inovações, configuram-se novas regiões industriais. Explique os motivos para a mudança no padrão de localização das indústrias.

Questão 4 - Segunda maior economia do mundo, a China é também um dos maiores países do planeta. Em todos os lugares, em todos os quinhões, há de se encontrar uma mercadoria chinesa. O número incomensurável de trabalhadores impulsiona ainda mais a economia deste país asiático. Sua história não é menos impactante, o que desperta a atenção de muitos historiadores europeus. Explique com suas palavras o processo de industrialização chinês.

Questão 5 – Observe a imagem abaixo:



A imagem retrata um cenário presente na chamada Terceira Revolução Industrial ou Revolução Técnico-Científica, a qual fez surgir novos processos de produção e grandes mudanças nas relações de trabalho dentro das empresas capitalistas. Cite 3 mudanças ocorridas no mundo após o processo citado.

Questão 6 – Leia o texto abaixo:



A montadora Ford, de capital norte-americano, anunciou hoje (04/01/2012) a produção global de um modelo de utilitário esportivo, o EcoSport, projetado por cerca de 1,2 mil engenheiros brasileiros e argentinos no centro de desenvolvimento da companhia em Camaçari, na Bahia. O carro, que deverá ser vendido em 100 países, será produzido nas fábricas da Ford na Bahia, na Tailândia e na Índia.

Fonte: <http://agenciabrasil.ebc.com.br/noticia/2012-01-04/modelo-de-carro-concebido-no-brasil-vira-produto-global>. Acesso em 27/08/2012

Indique duas características da produção atual que estão presentes no processo de produção do novo ecosport.

Questão 7 – Observe o mapa abaixo:



O mapa mostra a disposição espacial das indústrias brasileiras, explique os motivos para o atual arranjo espacial.

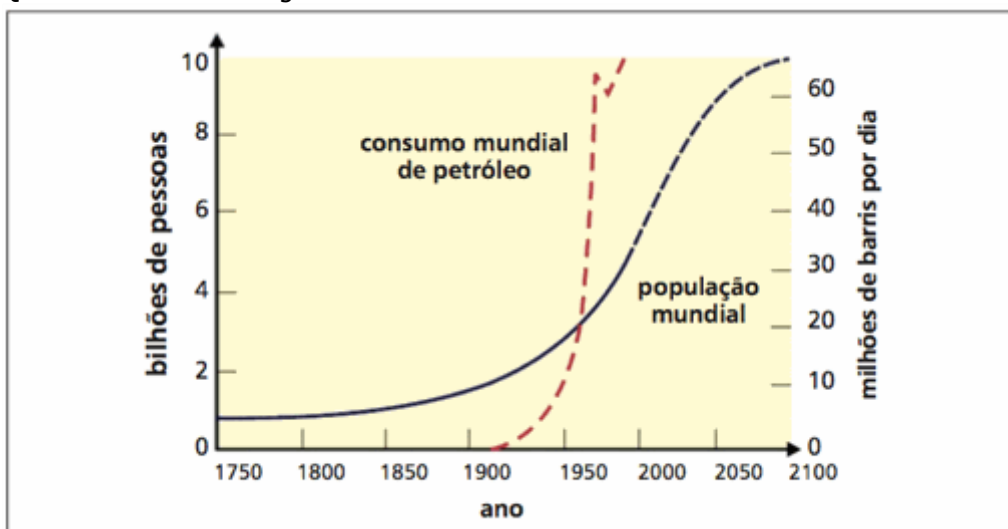
Questão 8 – Leia o texto abaixo:

“O atual momento da industrialização do Brasil vem se manifestando desde o final da Segunda Guerra Mundial, quando a política de substituição de importações foi deixada de lado em benefício dos estímulos para a entrada de capital estrangeiro, com a instalação das empresas multinacionais no país. Além disso, apesar de a maior parte das indústrias do país concentrar-se no Centro-sul do Brasil, há em curso um processo de desconcentração industrial, o que se intensifica com a chamada “Guerra Fiscal”.

Disponível em: <http://exercicios.mundoeducacao.bol.uol.com.br>

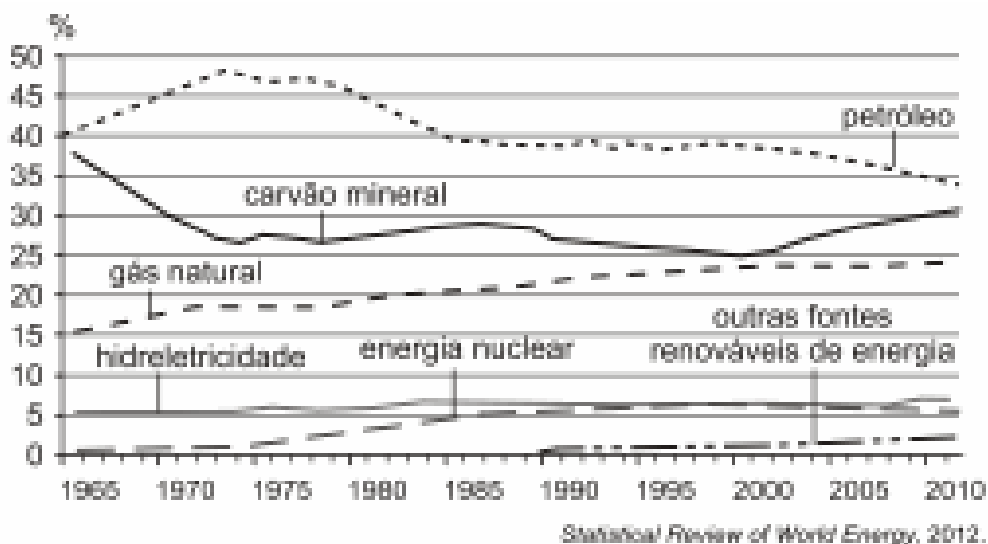
Explique o processo chamado de “Guerra Fiscal”.

Questão 9 – Observe o gráfico abaixo:



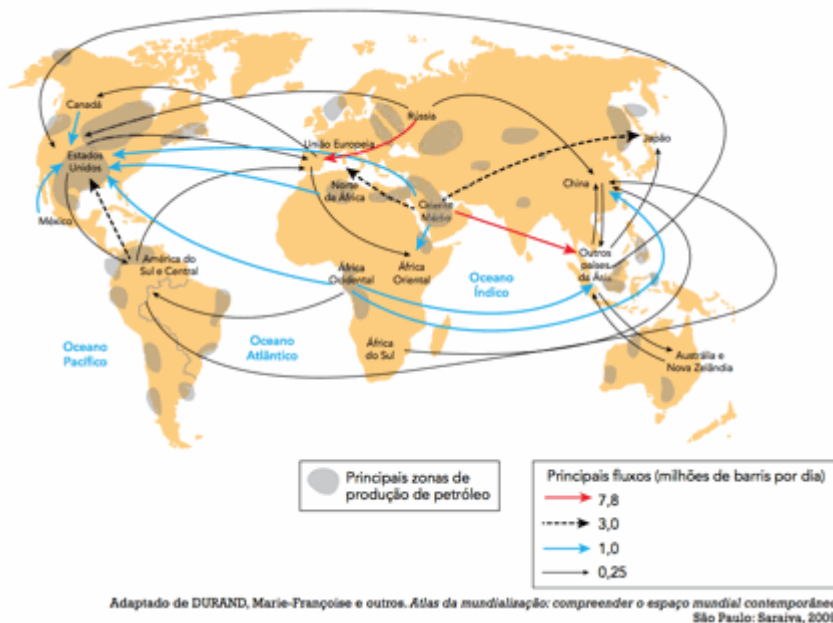
É possível estabelecer quais relações entre o consumo mundial de petróleo em relação a população mundial?

Questão 10 – Observe a imagem abaixo:



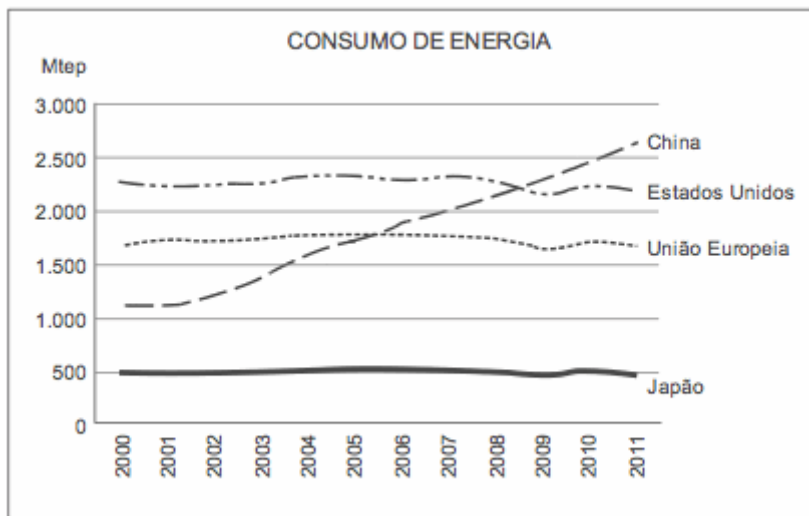
Explique o relativo aumento no consumo de carvão mineral ao redor do mundo.

Questão 11 – Observe a imagem abaixo:



Identifique os maiores fluxos de petróleo ao redor do mundo e a atual situação do Brasil enquanto produtor mundial.

Questão 12 – Observe a imagem abaixo:



Explique qual a relação entre o aumento do consumo de energia na China e sua atual posição como economia mundial.

Questão 13 – Observe a charge abaixo:



De acordo com seus conhecimentos sobre a atual dinâmica de localização das indústrias no mundo, explique qual a característica do processo ressaltada.

14 - A indústria de alta tecnologia – eletrônica e informática, biotecnologia e química fina, aeroespacial e bélica – reflete, nas suas opções de localização, uma reação às aglomerações industriais. Esses setores industriais procuram novas localizações nos subúrbios afastados dos núcleos metropolitanos ou em pequenas cidades interioranas. Por outro lado, mão de obra científica e técnica altamente qualificada e intensos investimentos de capital constituem as principais exigências para o sucesso desses empreendimentos. Cite o nome de um dos locais que oferecem as condições que estas empresas procuram, justifique sua resposta.

15 - Carvão mineral e o petróleo continuam a ser as duas principais matrizes elétrica e energética mundiais, porém a crise ambiental (com destaque para o aquecimento global) e a problemática do abastecimento de petróleo fazem com que os combustíveis renováveis e, sobretudo “limpos”, ganhem evidência. Apresente duas características de 3 fontes energéticas diferentes.

16 – Leia o texto abaixo:

Segundo o historiador Eric Hobsbawn, a Revolução Industrial “sob qualquer aspecto [este] foi provavelmente o mais importante acontecimento na história do mundo, pelo menos desde a invenção da agricultura e das cidades. E foi iniciado pela Grã-Bretanha”.

HOBSBAWN, Eric. *A Era das Revoluções – 1789-1848*. Rio de Janeiro: Paz e Terra, 1977, p. 45.

Explique as mudanças ocorridas no espaço geográfico mundial pós Revolução Industrial.

17 - Embora as atividades industriais na segunda metade do século XX tenham se dispersado para áreas consideradas periféricas, o que se nota é que elas permanecem bastante concentradas nos países centrais onde há importantes pesquisas em novas tecnologias, o mercado é mais dinâmico e os recursos financeiros são abundantes. Analise os possíveis motivos da atual dinâmica da indústrias no espaço geográfico.