

CONTEÚDOS DO 9º ANO - 3º/4º BIMESTRE 2018 - TRABALHO DE DEPENDÊNCIA

Nome: _____ N.º: _____

Turma: _____ Professor(a): José Data: ____/____/2018

Unidade: Cascadura Mananciais Méier Taquara

Resultado / Rubrica

Valor Total 10,0 pontos

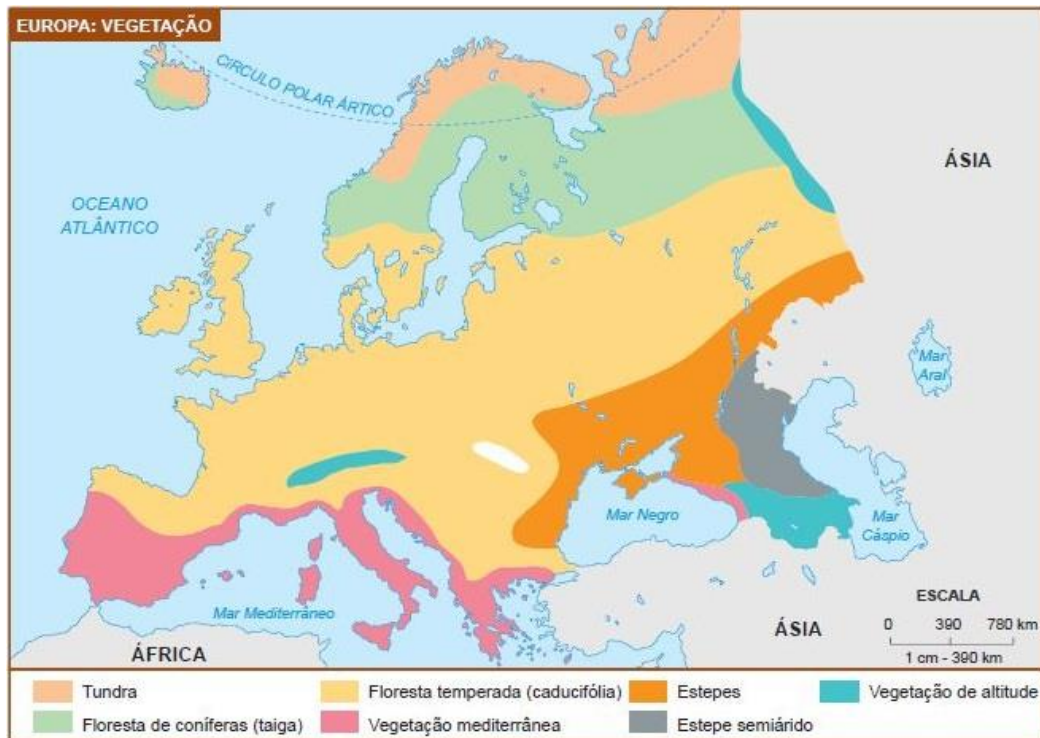
INSTRUÇÕES

- ★ Desenvolva seu trabalho apenas com caneta azul ou preta.
- ★ Preencha corretamente o cabeçalho e entregue esta folha junto com a resolução do trabalho.
- ★ Fique atento ao prazo de entrega.
- ★ Leia o que está sendo solicitado, desenvolva seu trabalho calmamente e releia-o antes de entregá-lo.
- ★ Não utilize corretivos (*liquid paper*). Faça um rascunho e depois passe a limpo seu trabalho.

INSTRUÇÕES

- **AS QUESTÕES OBRIGATORIAMENTE DEVEM SER ENTREGUES EM UMA FOLHA À PARTE COM ESTA EM ANEXO.**

Questão 1)



Explique os motivos da Europa possuir diferentes tipos de vegetação e caracterize dois tipos de vegetação existentes neste continente.

Questão 2)



Queda do muro de Berlim, 1989.

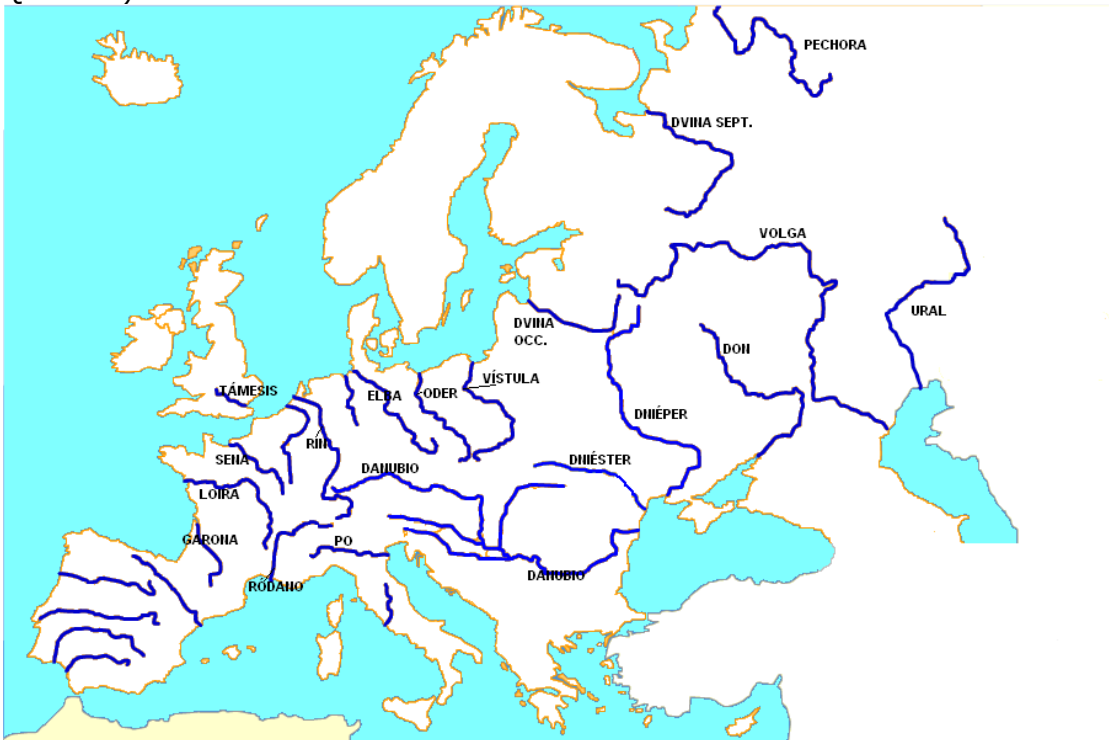
Explique quais foram os motivos que levaram ao fim da União Soviética e como esse fato se relaciona com a imagem acima?

Questão 3)



Com base na imagem acima vemos um dos mais novos capítulos a serem escritos pela União Europeia e Reino Unido. Explique qual o contexto político da imagem e quais podem ser os desdobramentos tanto para a União Europeia quanto para o Reino Unido.

Questão 3)



O mapa acima mostra os principais rios do continente europeu. Explique como a hidrografia pode auxiliar no desenvolvimento de cidades e pegue como exemplo ao menos dois rios da Europa que cruzam importantes cidades.

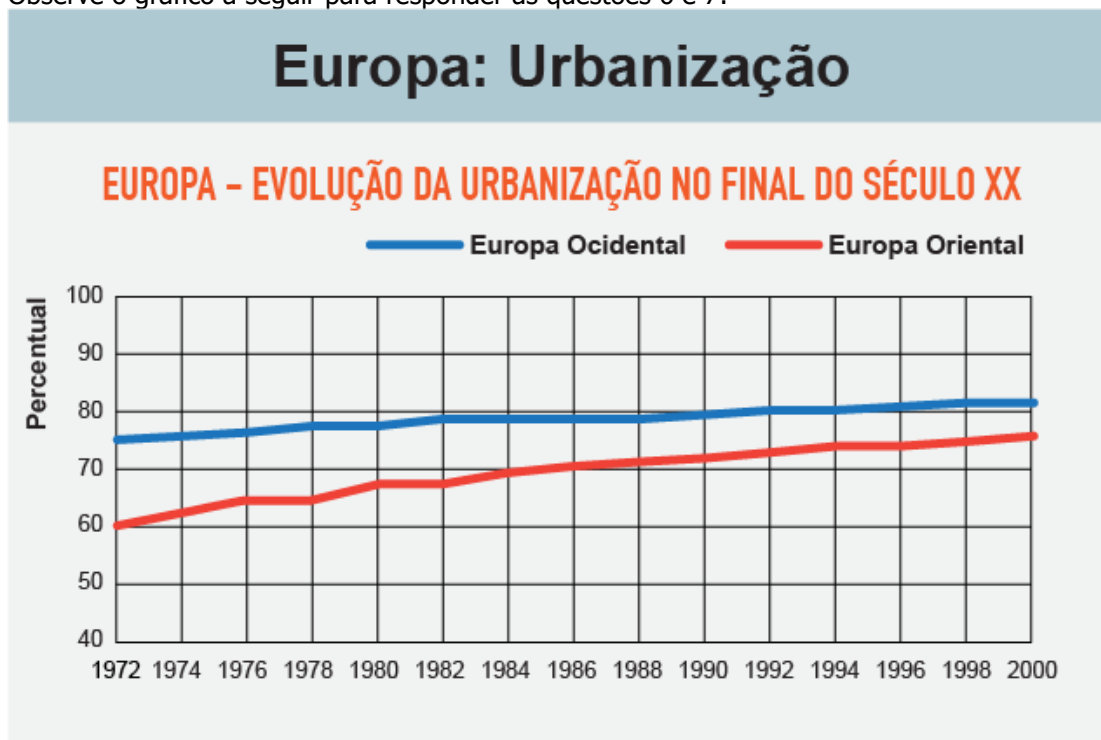
Observe mapa a seguir para responder as questões 4 e 5:



Questão 4) O mapa acima mostra o tamanho da Rússia, mas marca também os países que fizeram parte da antiga URSS e conquistaram sua independência. Acerca do processo de independência da ex-repúblicas soviéticas explique como se deu esse processo e se houve outro caso de países que se fragmentaram na Europa.

Questão 5) Ainda com base no mapa podemos observar a grande extensão da Rússia. Entretanto este país também possui mesmo nos dias de hoje áreas que lutam pela independência. Cite ao menos dois exemplos e explique por que a Rússia se opõe a independência de cada um desses territórios citados.

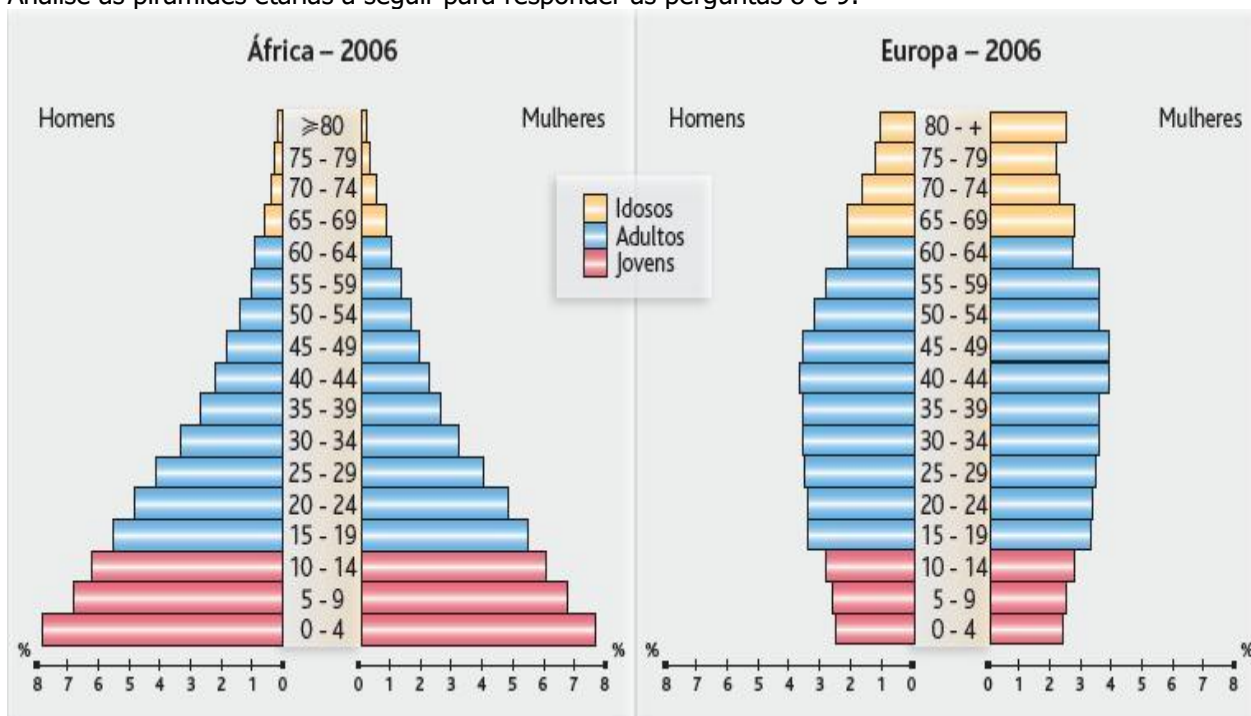
Observe o gráfico a seguir para responder as questões 6 e 7:



6) O que a taxa de urbanização indicada no mapa? Explique com as suas palavras.

7) Mesmo possuindo menor taxa de urbanização a Europa Oriental também possui um elevado grau se comparada a outras localidades. Explique quais são os fatores que levam a Europa a possuir uma taxa de urbanização tão elevada.

Analise as pirâmides etárias a seguir para responder as perguntas 8 e 9:



Questão 8) Nas pirâmides etárias acima podemos ver uma grande diferença entre os continentes europeu e africano. Indique os motivos para tamanha diferença.

Questão 9) Analisando a pirâmide etária da Europa quais as conclusões que podem ser tiradas sobre a composição de sua população? Como isso pode afetar os países do continente europeu?

Questão 10)



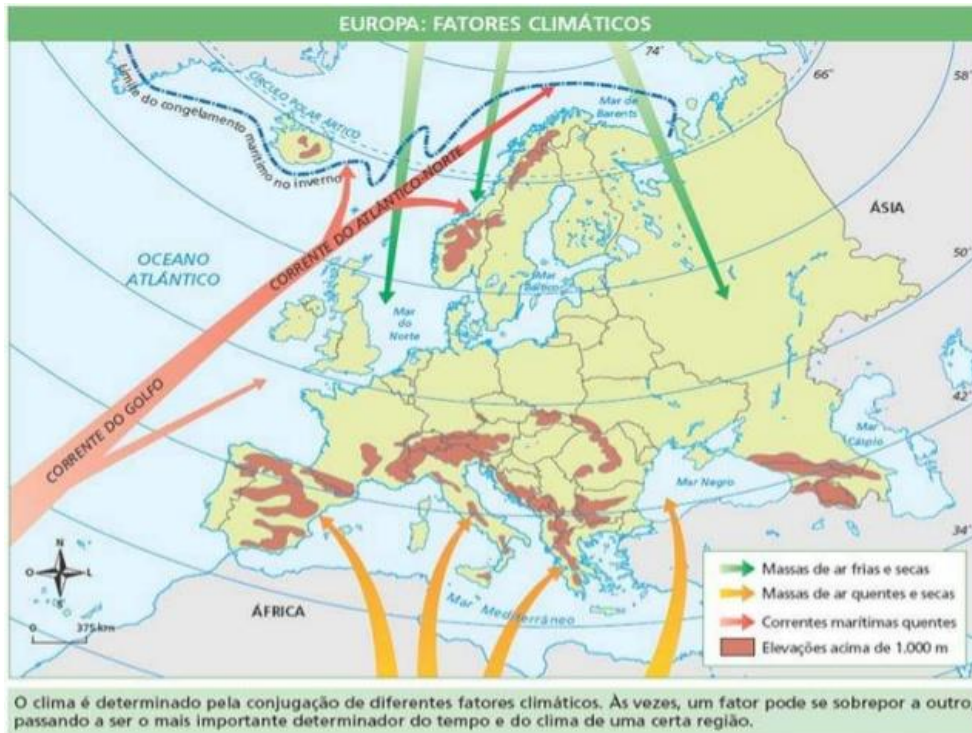
Qual é a crítica apontada na charge acima?

Observe o mapa abaixo para responder as questões 11 e 12:



Questão 11) Pode-se ver uma grande variedade no relevo da Europa a partir do mapa acima. Indique quais são os motivos para a formação deste tipo de relevo.

Questão 12) O relevo é um dos principais agentes do clima, sendo assim relacione o relevo mostrado no mapa ao clima europeu.



Questão 13)
Qual a influência das correntes do Golfo no clima europeu?

Observe o mapa a seguir para responder as questões 14 e 15:



Questão 14) Explique como a dinâmica demonstrada no mapa acima afeta a relação entre os demais países europeus e a Rússia.

Questão 15) "A Rússia é uma das principais produtoras de gás e petróleo no mundo, entretanto um dos desafios para o país é a diversificação de sua economia". Explique esta colocação.

16) "É um termo formado pela união dos verbetes na língua japonesa (deru=sair) e (kasegu=para trabalhar), tendo como significado literário "trabalhando distante de casa", e designando qualquer pessoa que deixa sua terra natal para trabalhar temporariamente em outra região ou país." No Caso do Japão, esses Dekassegui se espalharam pelo mundo e no final dos anos 80 e início dos 90, foram estimulados a retornar ou a migrar para o Japão.

Baseado no trecho acima e no que foi pesquisado. IDENTIFIQUE a importância dos Dekasseguis para o mercado de trabalho Japonês?

17) A Nova Zelândia é um país que apresenta uma grande diversidade natural, principalmente quando o assunto é relevo. Além disso, essa diversidade pode ser vista em outros aspectos como o clima, a vegetação e hidrografia. CITE uma vantagem econômica devido à presença da grande diversidade.

18) EXPLIQUE o fenômeno dos dias e noites eternas que acontece nas regiões polares. Evento esse que é marcado por 24 horas de luz solar em um polo e 24 horas de escuridão no polo oposto.

19 – EXPLIQUE a relação entre o clima polar e a vegetação presente nas regiões polares do planeta.