

CONTEÚDOS DA 1ª SÉRIE – 3º/4º BIMESTRE 2019 – TRABALHO DE DEPENDÊNCIA

Nome: _____ N.º: _____

Turma: _____ Professor(a): Fernanda Data: ____/____/2019

Unidade: Cascadura Mananciais Méier Taquara

Resultado / Rubrica
Valor Total 5,0 pontos

INSTRUÇÕES

- ★ Desenvolva seu trabalho apenas com **caneta** azul ou preta.
- ★ Preencha corretamente o cabeçalho e entregue esta folha junto com a resolução do trabalho.
- ★ Fique atento ao prazo de entrega.
- ★ Leia o que está sendo solicitado, desenvolva seu trabalho calmamente e releia-o antes de entregá-lo.
- ★ Não utilize corretivos (*liquid paper*). Faça um rascunho e depois passe a limpo seu trabalho.

INSTRUÇÕES

● **AS QUESTÕES OBRIGATORIAMENTE DEVEM SER ENTREGUES EM UMA FOLHA À PARTE COM ESTA EM ANEXO.**

Questão 1

As máquinas foram inventadas, com o propósito de poupar o tempo do trabalho humano. Uma delas era a máquina a vapor que foi construída na Inglaterra durante o século XVIII. Graças a essas máquinas, a produção de mercadorias ficou maior e os lucros também cresceram. Vários empresários; então, começaram a investir nas indústrias. Antes das máquinas aparecerem o trabalho era feito de outra forma (artesanato e manufatura). **Monte uma Tabela comparativa sobre a evolução desse processo.** (1,0)

Artesanato	Manufatura	Maquinofatura

Questão 2

Observe as imagens abaixo com atenção:

Imagem 1: Interior de uma fábrica no século XIX



Imagem 2: crianças enchendo cigarros com o tabaco cultivado localmente no distrito Haragach em Rangpur, Bangladesh.



Há mais de uma década, a Organização Internacional do Trabalho (OIT) estabeleceu o dia 12 de junho como dia Dia Mundial Contra o Trabalho Infantil, contudo, ainda existem milhões de crianças em todo o mundo que estão empregados ilegalmente.

- Comente** sobre a exploração do trabalho infantil nas fábricas inglesas nos séculos XVIII e XIX. (0,5)
- Pesquise e apresente** o que você descobriu sobre a exploração do trabalho infantil no Brasil e no Mundo no século XXI. (0,5)

Leia o texto abaixo com atenção e responda as questões 3 e 4.

Immanuel Kant escreve um artigo tentando responder a pergunta "O que é esclarecimento?" Segundo Kant, "[...] esclarecimento é a saída do homem de sua menoridade. Menoridade esta que é a incapacidade de fazer uso de seu entendimento sem a direção de outro indivíduo. E o culpado dessa menoridade é o próprio indivíduo. O homem é o próprio culpado dessa menoridade se a causa dela não se encontra na falta de entendimento, mas na falta de decisão e coragem de servir-se de si mesmo sem a direção de outrem. Sapere aude! Tem coragem de fazer uso de teu próprio entendimento, tal é o lema do esclarecimento." (KANT, 2005. p. 63-64).

Questão 3

A partir da leitura do texto acima, **destaque e comente** as principais características do pensamento iluminista. (0,5)

Questão 4

Pesquise outro texto de um filósofo iluminista e destaque e comente as ideias contidas nele e defendidas pelo filósofo. (**Obs: reproduza o texto no seu trabalho indicando a fonte.**) (0,5)

O texto abaixo é um trecho da Declaração de independência das treze colônias inglesas. Leia-o e responda as questões 5 e 6.

"São verdades incontestáveis para nós: todos os homens nascem iguais; o Criador lhes conferiu certos direitos inalienáveis, entre os quais os de vida, o de liberdade e o de buscar a felicidade; para assegurar esses direitos se constituíram homens-governo cujos poderes justos emanam do consentimento dos governados; sempre que qualquer forma de governo tenda a destruir esses fins, assiste ao povo o direito de mudá-la ou aboli-la, instituindo um novo governo cujos princípios básicos e organização de poderes obedeçam às normas que lhes pareçam mais próprias para promover a segurança e a felicidade gerais."

(Trecho da "Declaração de Independência dos Estados Unidos da América", Ministro das Relações Exteriores, EUA.)

Questão 6

Analise a ideia central do texto relacionando-a com os motivos que levaram as treze colônias a lutar pela independência. (0,5)

Questão 7

Relacione as ideias do texto com o movimento iluminista. (0,5)


Questão 8

A Revolução Francesa é dividida em várias etapas que no fim culminaram com a derrota absolutista e com a vitória da Burguesia. Observe as imagens abaixo e indique a que acontecimento ou fase da revolução elas se referem e faça um resumo sobre o mesmo. (0,5 cada)


a.



b.

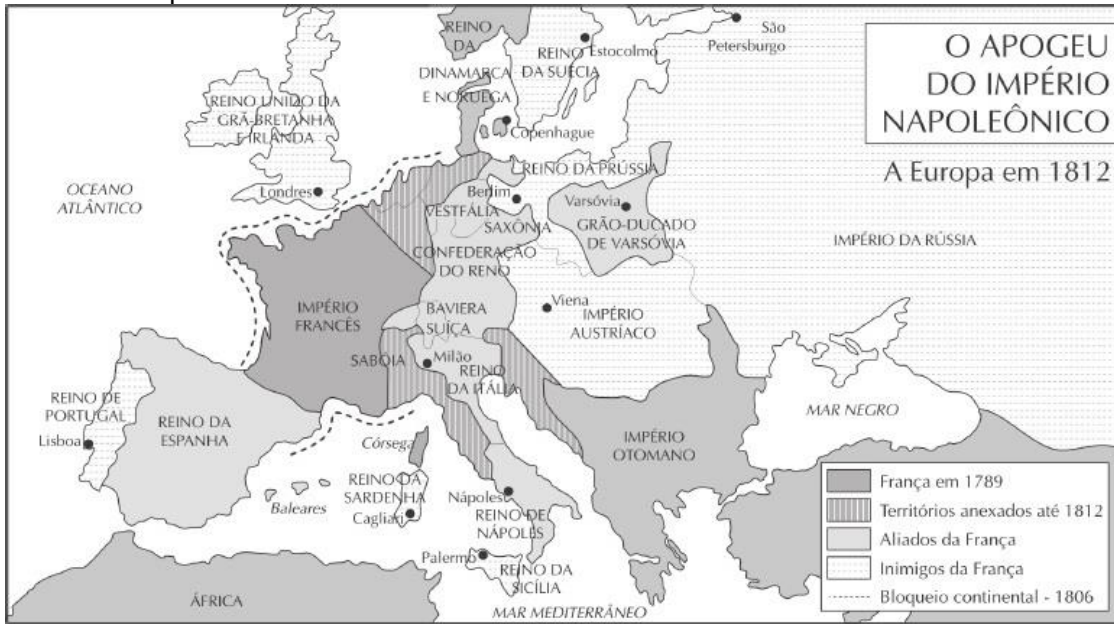


c.



Questão 9

Observe o mapa abaixo



- O mapa representa a expansão napoleônica pela Europa. **Análise os motivos e os objetivos** dessa expansão. (0,25)
- Explique** o que foi o Bloqueio continental. (0,25)