

GEOGRAFIA

Questões de 1 a 10

QUESTÃO 01

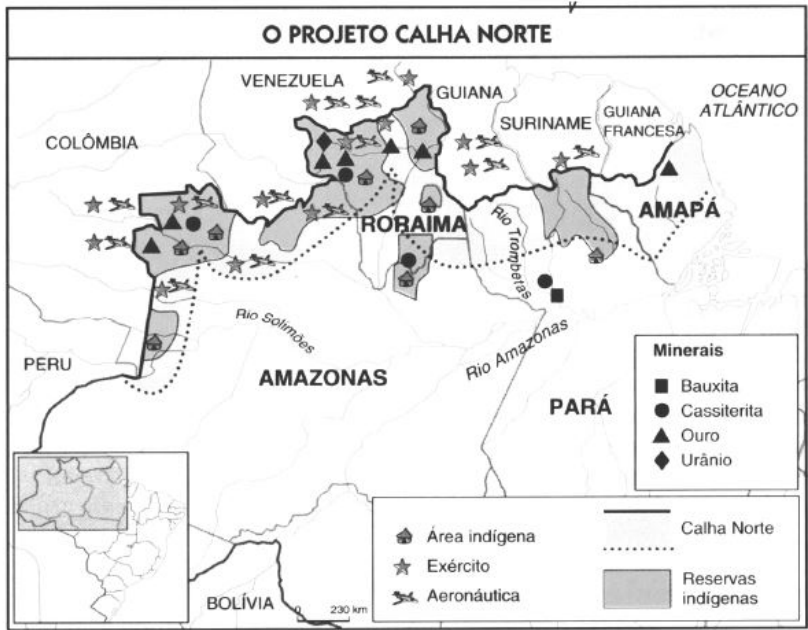
(UFPR 2017 2ª Fase: Geografia) Poderíamos assim, grosseiramente – e como sugestão para um debate –, reconhecer a existência de quatro Brasis: uma Região Concentrada, formada pelo Sudeste e pelo Sul, o Brasil do Nordeste, o Centro-Oeste e a Amazônia.

(SANTOS, Milton; SILVEIRA, Maria Laura. Brasil. *Território e Sociedade no início do século* ²¹. Rio de Janeiro: Record, 2001, p. 268.)

Por que o autor do texto faz distinção entre esses quatro Brasis? Justifique sua resposta, apontando diferenças entre as regiões brasileiras citadas.

QUESTÃO 02

O mapa a seguir mostra as regiões nas quais existe a presença de militares brasileiros atuando no projeto Calha Norte.



Disponível em: <<http://www.newsrdonia.com.br/noticias/calha+norte+empenha+r+320+mil+para+atender+alvo-rada+do+oeste/39303>>.

Acesso em: 16 mar. 2014.

Tendo em vista as particularidades geopolíticas e sociais da região Norte, explique a importância estratégica do projeto Calha Norte.

QUESTÃO 03

A região Nordeste possui 28% da população brasileira e apenas 3% da disponibilidade de água. O rio São Francisco apresenta 70% de toda a oferta regional. As bacias do semiárido setentrional têm uma oferta hídrica per capita bem inferior à considerada ideal pela Organização das Nações Unidas (ONU), que é de 1.500 m³/hab/ano. A disponibilidade no Nordeste Setentrional por habitante ao ano é de em média 450 m³/hab/ano. Diante dessa realidade, o Projeto São Francisco estabelece a interligação da bacia hidrográfica do rio São Francisco, que apresenta relativa abundância de água (1850 m³/segundo de vazão garantida pelo reservatório de Sobradinho), com bacias inseridas no Nordeste Setentrional, com água para consumo humano e animal.

Disponível em: <<http://www.brasil.gov.br/noticias/arquivos/2012/12/12/obras-de-transposicao-do-rio-sao-francisco-estao-43-concluidas>>. Acesso em: 08 mar. 2013.

Apesar desses dados o projeto tem defensores e opositores.

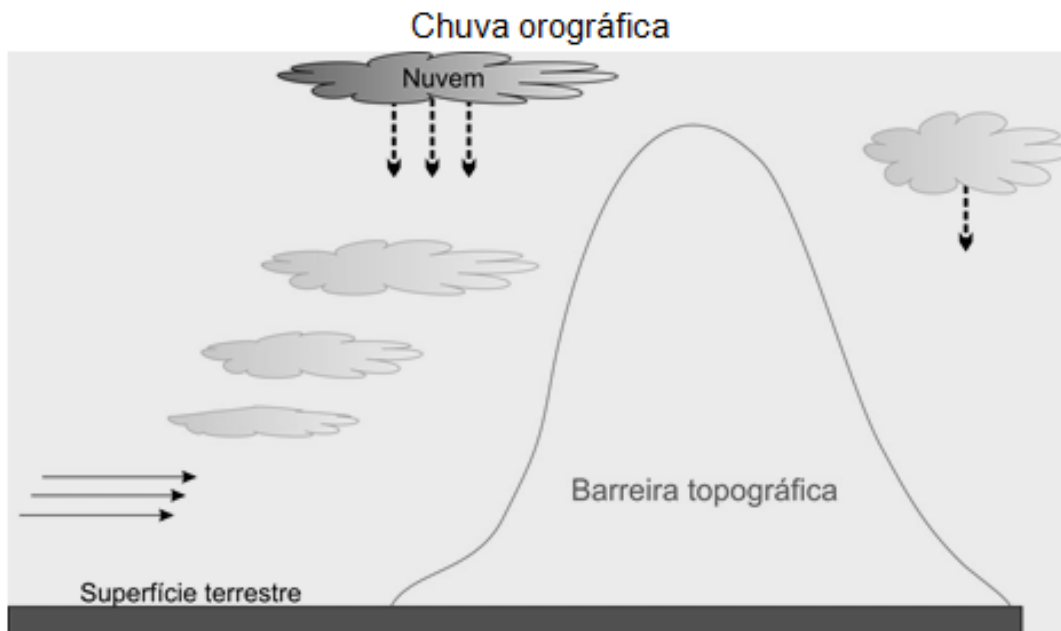
A) Cite e explique um argumentos favoráveis ao projeto.

B) Cite e explique um argumentos contrários ao projeto.

QUESTÃO 04

O Planalto da Borborema situa-se entre a faixa litorânea oriental do Nordeste e o sertão. É constituído por rochas cristalinas e é responsável pelas chuvas orográficas na região. A borda oriental da Borborema possui clima mais úmido, solo mais espesso, tornando possível aí o desenvolvimento de uma vegetação mais densa. A pluviosidade vai diminuindo para oeste, aparecendo então o agreste e a caatinga.

Disponível em: http://pt.wikipedia.org/wiki/Geografia_da_regi%C3%A3o_Nordeste_do_Brasil Acesso em: 04 mar.2012.



Disponível em: <http://www.google.com.br/imgres?imgurl=http://www.infoescola.com/wp-content/uploads/2009/10/chuva-orografica.jpg&imgrefurl=http://www.infoescola.com/meteorologia/tipos-de-chuvas> Acesso em: 4 mar. 2012

Explique a importância do planalto da Borborema para a formação da região semiárida no nordeste brasileiro.

QUESTÃO 05

O MAIOR TREM DO MUNDO

o maior trem do mundo
leva minha terra
para Alemanha
leva minha terra
para o Canadá
leva minha terra para o Japão.

O maior trem do mundo
puxado por cinco locomotivas a óleo diesel
engatadas geminadas desembestadas
leva meu tempo, minha infância, minha vida
triturada em 163 vagões de minério e destruição.

O maior trem do mundo
transporta a coisa mínima do mundo,
meu coração itabirano.

Lá vai o maior trem do mundo
vai serpenteando vai sumindo
e um dia, eu sei, não voltará
Pois nem terra nem coração existem mais.

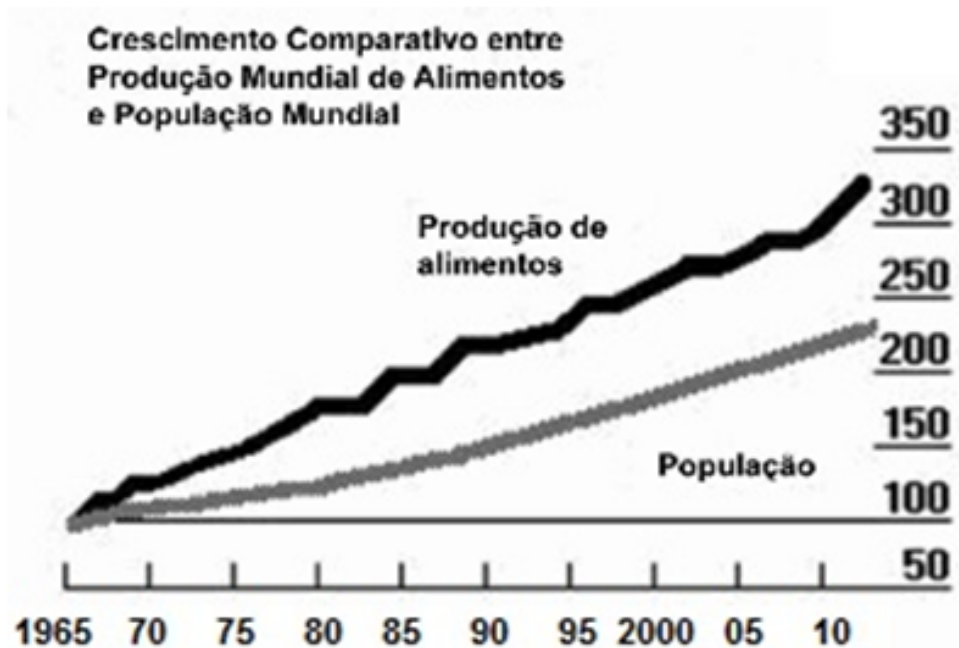
Carlos Drummond de Andrade



Após a análise das imagens e a leitura do poema de Carlos Drummond de Andrade, responda:
Qual é a região ferrífera citada nos versos Carlos Drummond de Andrade e quais os impactos ambientais gerados por essa atividade econômica?

QUESTÃO 06

O gráfico a seguir representa a variação da produção de alimentos e da população no mundo, entre 1965 e 2011.

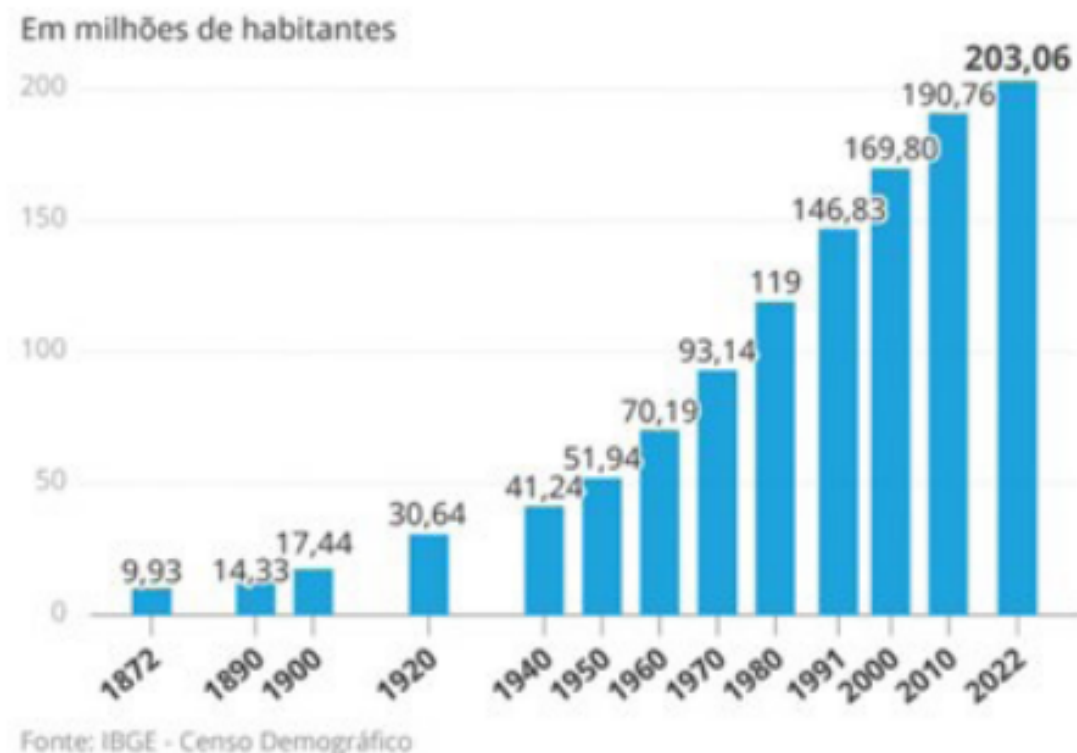


Disponível em: <<http://goo.gl/HYbk41>>. Acesso em: 02 mar. 2014.

Os dados apresentados pelo gráfico contradizem a teoria demográfica malthusiana. Explique essa afirmação:

QUESTÃO 07

Analise o gráfico, a seguir.



Os dados do censo demográfico de 2022 mostram que o ritmo de crescimento da população brasileira é cada vez menor. Esse movimento ilustra o que os especialistas chamam de transição demográfica, que traz reflexos tanto em questões comportamentais quanto na área econômica.

Folha de S.Paulo, 29/06/2023. (Adaptado)

Apresente duas questões comportamentais que expliquem o ritmo de crescimento da população brasileira observado no gráfico.

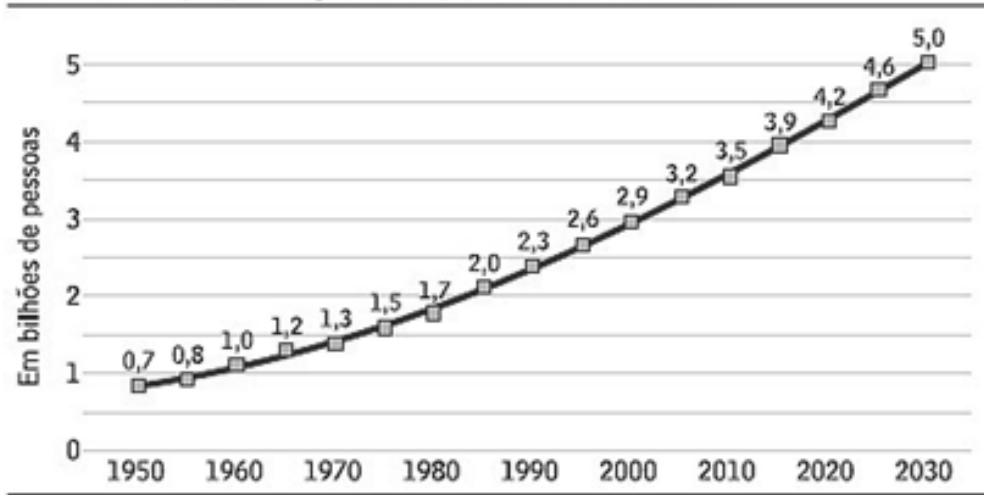
QUESTÃO 08

"A globalização da produção transformou algumas metrópoles em centros da economia internacional. Esses centros urbanos formam uma rede urbana por onde transita a maior parte do capital que circula pelos mercados financeiros mundiais. São as empresas sediadas nestes centros que lançam inovações tecnológicas e comandam os serviços especializados para a indústria, como a publicidade e o marketing"

(GUIMARÃES et al., 2007).

Como esses centros urbanos são denominados?

Cresce a população urbana no mundo



As dez maiores megalópolis do mundo

Em milhões de habitantes na região metropolitana

| 2005 | | 2015 | |
|--------------------------|------|---------------------------|------|
| 1ª – Tóquio (Japão) | 35,2 | 1ª – Tóquio (Japão) | 35,5 |
| 2ª – Cidade do México | 19,4 | 2ª – Mumbai (Índia) | 21,9 |
| 3ª – Nova York | 18,7 | 3ª – Cidade do México | 21,6 |
| 4ª – São Paulo | 18,3 | 4ª – São Paulo | 20,5 |
| 5ª – Mumbai (Índia) | 18,2 | 5ª – Nova York | 19,9 |
| 6ª – Nova Delhi (Índia) | 15,0 | 6ª – Nova Delhi (Índia) | 18,6 |
| 7ª – Xangai (China) | 14,5 | 7ª – Xangai (China) | 17,2 |
| 8ª – Calcutá (Índia) | 14,3 | 8ª – Calcutá (Índia) | 17,0 |
| 9ª – Jacarta (Indonésia) | 13,2 | 9ª – Daca (Bangladesh) | 16,8 |
| 10ª – Buenos Aires | 12,6 | 10ª – Jacarta (Indonésia) | 16,8 |

Disponível em: <<http://techne.pini.com.br/engenharia-civil/140/artigo287597-2.aspx>>. Acesso em: 01 nov. 2016.

Identifique a relação do crescimento populacional com as megacidades.

QUESTÃO 10

Este tipo de agricultura foi introduzido pelos europeus em suas colônias tropicais a partir do século XVI. Com as transformações na agricultura, passou a ser um sistema intensivo de capitais, mas continua a ser um sistema latifundiário e monocultor de produtos tropicais, voltados para a exportação.

O texto se refere ao sistema agrícola? Como você chegou a essa conclusão?
